

COLOCA EL SIGNO $>$, $<$ ó $=$

a) 45.678 45.687

b) 90.623 89.999

c) 12.345 12.345

d) 78.901 79.001

c) 12.345 12.345

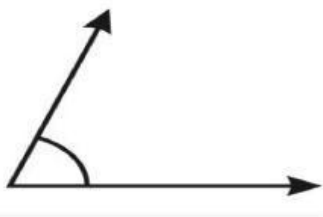
I. **PROBLEMAS:**

a) María tiene 35.200 Bs y gastó 12.450 . ¿Cuánto le queda?

II. **COMPLETA LAS SIGUIENTES SECUENCIAS**

a) $5.000 - 6.000 - 7.000 -$



III. **MIDE LOS SIGUIENTES ÁNGULOS Y ESCRIBE A QUE TIPO DE ANGULO PERTENECE**



- Angulo agudo
- Angulo obtuso
- Angulo recto

Escribe f si es falso y v si es verdadero

- El cuadrado tiene cuatro lados
- El triángulo tiene cinco lados



Une con una linea

$2 \times 2 =$

6

$3 \times 3 =$

4

Arrastra

a) 45

b) 43

c) 42



Cuarenta y dos



Cuarenta y cinco



Cuarenta y tres

□ □ □
4.654
+ 3.655

34
□ □ □ □