

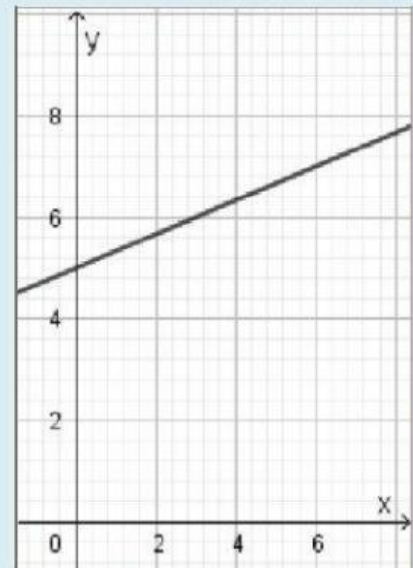
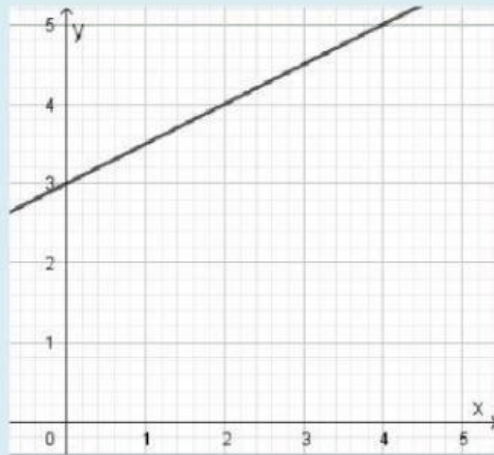
Función lineal

Completá la tabla

Luego uní cada una con el gráfico que la represente.

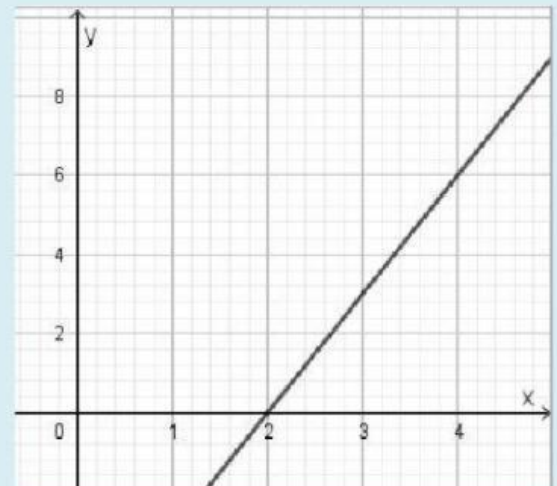
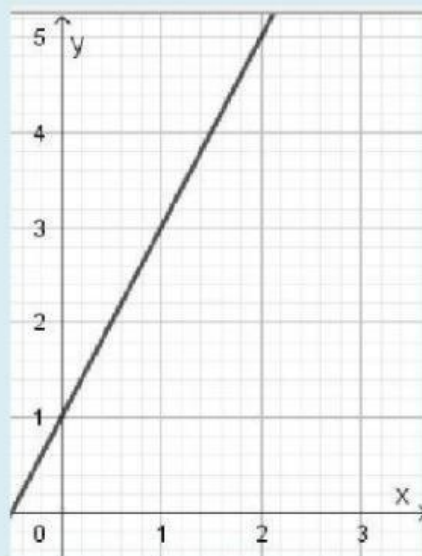
a) $y = 2x + 1$

x	y
0	
2	
3	
4	
5	



b) $y = x : 3 + 5$

x	y
0	
3	
6	
9	
12	



c) $y = 3x - 6$

x	y
2	
3	
4	
5	
6	

d) $y = x : 2 + 3$

x	y
0	
4	
6	
8	
12	