

Completa el crucigrama de la multiplicación

3	X	5	=				
X		X					
7		6	X	8	=		
		=		X			
			5	X	9	=	
			=		X		
					3		
					=		



Piensa, piensa y responde

3	X	4	=		X	2	=						
X		X			X								
9		2			4	X	5	=		X	2	=	
=		=			=		X			X			
							8				9		
		X					=				=		
		3	X	6	=						X		
		=		X							2		
				8	X	9	=				=		
				=									



En los recuadros completa los números que faltan, puedes realizar los ejercicios en tu cuaderno borrador o en hojas auxiliares.

$$\begin{array}{r} 3.456 \\ \times 8 \\ \hline \square 7.\square 48 \end{array}$$

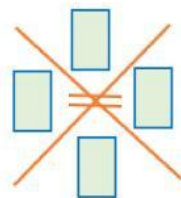
$$\begin{array}{r} 2.413 \\ \times 4 \\ \hline 9.65\square \end{array}$$

$$\begin{array}{r} 3.845 \\ \times 54 \\ \hline + 15.\square 80 \\ 19.\square 25 \\ \hline \square 07.630 \end{array}$$

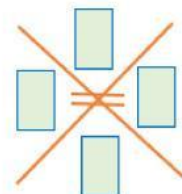
$$\begin{array}{r} 45.678 \\ \times 67 \\ \hline + 319.7\square 6 \\ 2\square 4.068 \\ \hline \square.060.\square 26 \end{array}$$

Soluciona las siguientes multiplicaciones en tu cuaderno u hojas auxiliares con la prueba de exclusión de nueves, luego copia los resultados.

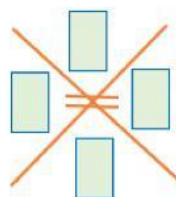
$$\begin{array}{r} 2.343 \\ \times 6 \\ \hline \square\square\square\square\square \end{array}$$



$$\begin{array}{r} 4.356 \\ \times 5 \\ \hline \square\square\square\square\square \end{array}$$



$$\begin{array}{r} 8.762 \\ \times 3 \\ \hline \square\square\square\square\square \end{array}$$



$$\begin{array}{r} 5.467 \\ \times 4 \\ \hline \square\square\square\square\square \end{array}$$

