


Capaian Pembelajaran: Di akhir fase D, peserta didik dapat merumuskan pertanyaan, mengumpulkan, menyajikan, dan menganalisis data untuk menjawab pertanyaan. Mereka dapat menggunakan diagram batang dan diagram lingkaran untuk menyajikan dan menginterpretasi data.



Tujuan Pembelajaran: Peserta didik dapat menggunakan diagram garis, menyajikan, dan menginterpretasi data dengan tepat.

Apersepsi



- Hari apa yang paling panas?
- Hari apa yang paling dingin?
- Cara melihat perubahan suhu dengan lebih jelas?

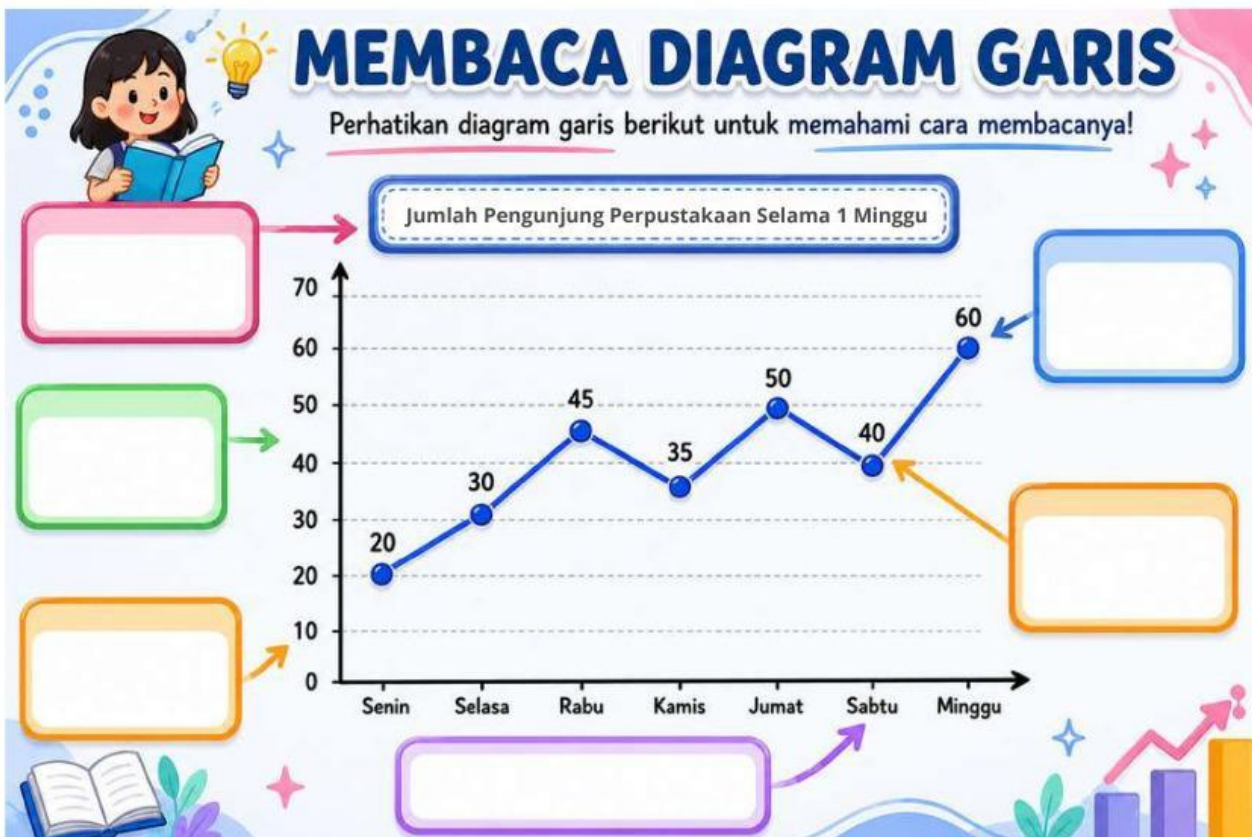
MATERI

Materi diagram garis dan sudut bisa kalian lihat pada file di samping ini



Masalah 1

Pasangkan bagian diagram berikut:



Judul diagram

Sumbu Horizontal

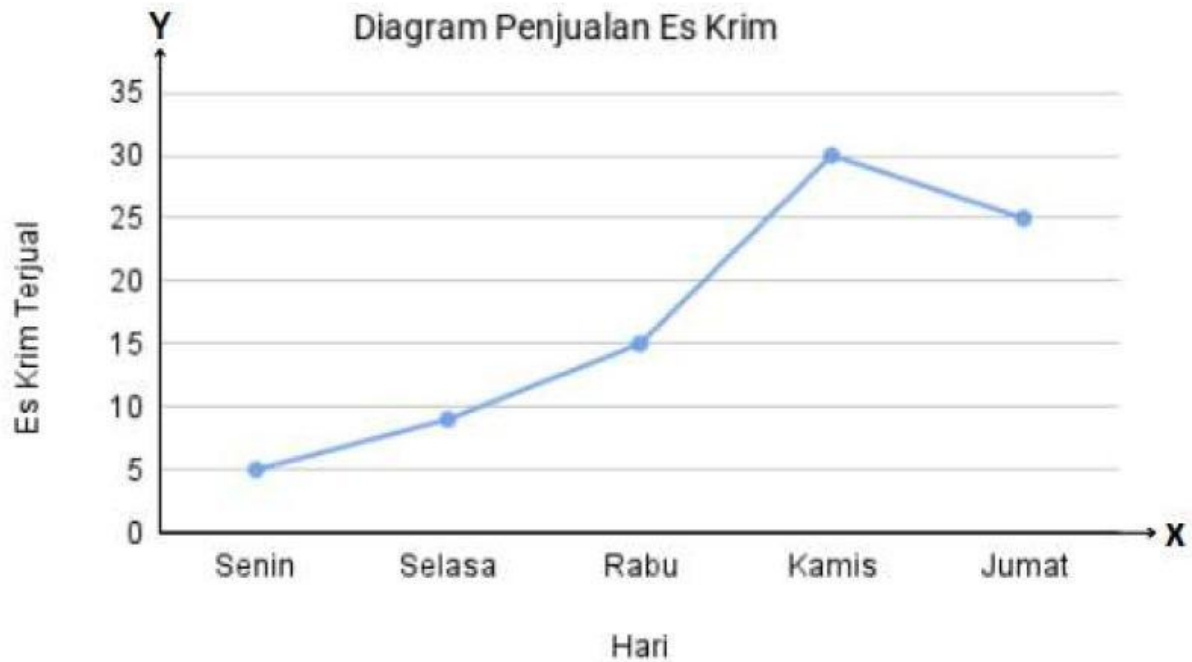
Titik data

Sumbu Vertikal

Skala

Garis Penghubung

Masalah 2



Perhatikan diagram diatas

1. Penjualan tertinggi terjadi pada hari ...

Senin

Kamis

Rabu

Jumat

2. Selisi penjualan es krim hari Rabu dan Jumat adalah

10

13

15

5

3. Jumlah penjualan es krim pada hari Senin adalah

..... Orang

4. Pada hari apa penjualan es krim terjual sebanyak 15 buah

Hari

REFLEKSI HARIAN

Perasaanku Hari ini..



Senang



Sedih



Semangat



Lelah



Biasa



Karena..

Hari Ini Aku Belajar..

Perbuatan Baikku Hari Ini...