

Nombre y apellidos:

Curso: grupo:

Sección Bil / no Bil






P1. 1,25 puntos. P2. 1,5 puntos. P3. 1 punto. P4. 1,25 puntos. P5. 2 punto

Nota _____

1. Define.Folclore. ¿Qué es el folclore? ¿De dónde procede el origen del término? ¿Cuál es su función?, ¿Cómo se transmite? ¿Cuáles son las manifestaciones comunes a todo tipo de música tradicional o folclórica?

2. Escribe el nombre de estos instrumentos y dí a qué familia pertenecen.

				
Nombre	Nombre:	Nombre:	Nombre:	Nombre:
Familia:	Familia:	Familia:	Familia:	Familia:

				
Nombre:	Nombre:	Nombre:	Nombre:	Nombre:
Familia:	Familia:	Familia:	Familia:	Familia:

3. Lee atentamente estas canciones e indica a qué tipo de canción pertenece.

- a) Este niño chiquito cuna ya tiene, su padre se la ha hecho para los reyes. **Canción de** _____
- b) Viva la novia y el novio y el cura que los casó, la madrina y el padrino, los convidados y yo.
Canción de _____
- c) Pero mira cómo beben los peces en el río, pero mira cómo beben por ver a Dios nacido. **Canción de** _____
- d) Antón, Antón, antón pirulero, cada cual, cada cual que atienda su juego y el que no lo atienda pagará una prenda. **Canción de** _____
- e) A la una, a las dos de la mañana se levanta el panadero con su pantalón de pana. Apareja su borrico, cuelga su cerón y se va pa Zaragoza a vender pan de Aragón. Muchachitas, venid que lo vendo barato, y me tengo que ir.
Canción de _____
- f) Ya se van los quintos, madre, ya se va mi corazón, ya se va el que tiraba chinitas en mi balcón.
Canción de _____
- g) Esta noche rondo yo, mañana ronde quien quiera; esta noche rondo yo la calle de mi morena. **Canción de** _____

4. Escribe de cada comunidad autónoma su danza o baile más representativas.

- 1.
- 2.
- 3.
- 4.
- 5.
- 6.
- 9.
- 12.
- 15.
- 18.

- 7.
- 10.
- 13.
- 16.
- 19.

- 8.
- 11.
- 14.
- 17.



5. Escribe las siguientes escalas pentáfonas menores y menores

Escala pentáfona menor de mi. Señala sus grados y distancias.



Escala pentáfona Mayor de Sol. Señala sus grados y distancias.



Escala pentáfona menor de la. Señala sus grados y distancias.



Escala pentáfona Mayor de Do. Señala sus grados distancias.

