

# LKPD



## Matematika

Tema:

Bangun Datar



Nama kelompok :

- 1.....
- 2.....
- 3.....
- 4.....

Kelas:

# BANGUN DATAR



Berikan tanda centang pada jawaban di bawah ini!

1

Bangun datar yang memiliki satu titik pusat adalah ...

Trapesium

Segitiga

Persegi

Lingkaran

2

Bangun datar yang memiliki 4 sisi sama panjang adalah ...

Persegi panjang

Segitiga

Persegi

Lingkaran

3

Bangun datar yang memiliki 3 sisi adalah ...

Segitiga

Trapesium

Persegi

Lingkaran

4

Bangun datar yang berbentuk lingkaran adalah...

Buku

Jam dinding

Meja

Papan tulis

5

Bangun datar yang berbentuk bulat disebut ...

Layang-layang



Segitiga

Persegi

Lingkaran

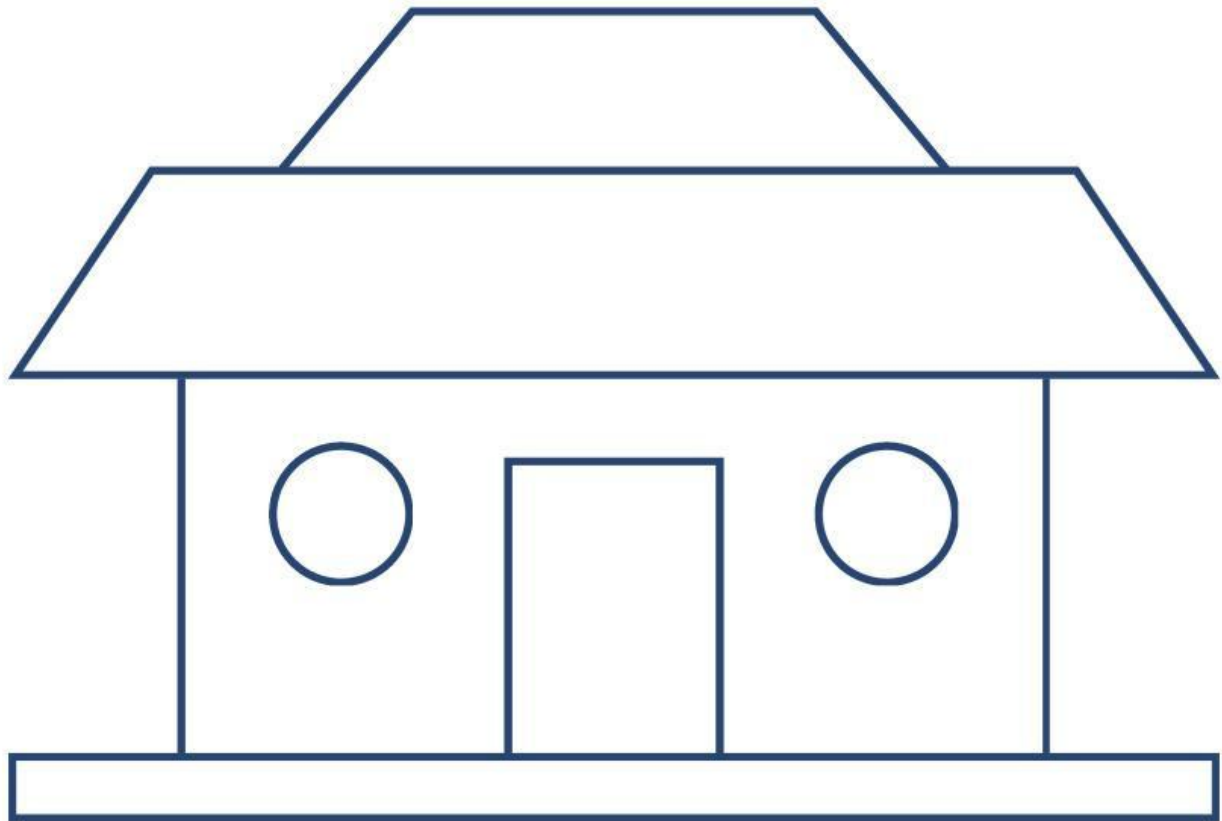
# Menyusun Bentuk Bangun Datar

Susun beberapa bangun datar berikut, tarik garis dengan hasil susunan bangun datar yang tepat.



# DEKOMPOSISI BANGUN DATAR

Tuliskan jumlah dan nama bangun datar yang tersusun dengan tepat!



Nama Bangun Datar	Jumlah Bangun Datar