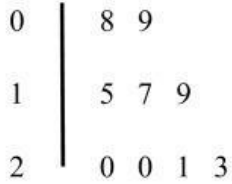


Diagrama de caule-e-folhas

1. Na escola da Macieira existem 9 turmas ao todo. Para organizar a quantidade de alunos de cada turma a professora Filipa fez um diagrama de caule-e-folhas.

Turmas da escola da Macieira



- 1.1. A turma que tem mais alunos tem quantos alunos? _____
- 1.2. A turma que tem menos alunos tem quantos alunos? _____
- 1.3. Qual é a moda? _____
- 1.4. Quantos alunos tem a escola no total? _____
2. Para comprar uns ténis o Simão fez uma pesquisa na Internet e encontrou os seguintes preços, em euros:

54 45 40 54 63 39 59 60 57 65 41

- 2.1. Completa os diagramas:

Diagrama de caule-e-folhas

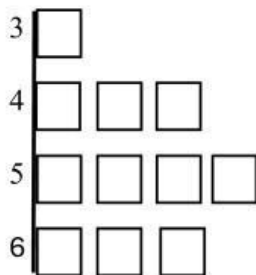
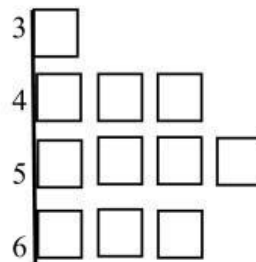


Diagrama de caule-e-folhas ordenado



- 2.2. Quanto custavam os ténis mais baratos? _____
- 2.3. E os mais caros? _____
- 2.4. Qual é a moda dos preços? _____
- 2.5. O Simão comprou os ténis cujo o preço se aproxima mais da moda dos preços. Quanto pagou o Simão? _____