

LKPD

BANGUN DATAR

Perhatikan Video berikut ini:



Perhatikan materi presentasi berikut ini:



Materi



Materi

LKPD

BANGUN DATAR

1

TEKSFIELD

Bangun Datar segi empat yang keempat sisinya sama panjang dan keempat sudutnya siku-siku atau 90° adalah...

2

SINGLE CHOICE

Berikut ini yang bukan merupakan bangun datar adalah....

3

CHECKBOXES

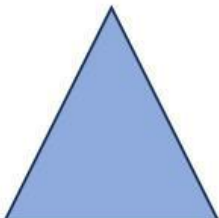
Pernyataan yang benar adalah...

Persegi memiliki 4 sisi Lingkaran memiliki 6 sisi Segitiga memiliki 3 sisi

4

SELECT

Nama bangun datar di bawah ini adalah...



Persegi Segitiga

Persegi panjang Lingkaran

LKPD

BANGUN DATAR

5

WORD SEARCH

Temukan 3 kata pada kotak di bawah ini

S	S	I	S	I
M	U	L	I	N
O	S	D	K	T
D	K	C	U	K
U	G	X	M	T

6

SPEAK

Sebutkan nama bangun datar berikut dengan tepat

Sebutkan nama bangun datar berikut dengan benar!



7

LISTENING

Dengarkan suara berikut dan tuliskan jawabannya dengan tepat!




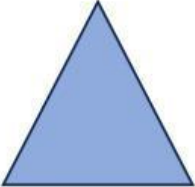

LKPD

BANGUN DATAR

8

DRAG & DROP


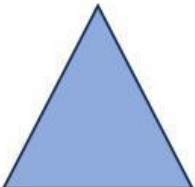

Tentukan rumus yang sesuai dengan gambar

	<input type="text"/>	$L = \frac{1}{2} \times \text{alas} \times \text{tinggi}$
	<input type="text"/>	$L = \text{panjang} \times \text{lebar}$
	<input type="text"/>	$L = \pi \times r \times r$

8

JOIN

Buatlah garis ke jawaban yang benar

	<input type="text" value="Persegi Panjang"/>
	<input type="text" value="Lingkaran"/>
	<input type="text" value="Segitiga"/>