



LKPD

BANGUN DATAR

Perhatikan video berikut ini



Perhatikan materi presentasi berikut ini



Materi

Materi



LKPD

BANGUN DATAR

1.

TEKSFIELD

Bangun datar segi empat yang keempat sisinya sama Panjang dan keempat sudutnya siku siku 90° adalah...

2.

SINGLE CHOICE

Berikut ini yang bukan merupakan bangun datar

3.

CHECKBOXES

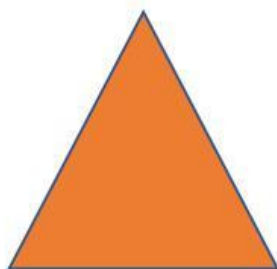
Pertanyaan yang benar adalah...

Persegi memiliki 4 sisi Lingkaran memiliki 6 sisi segitiga memiliki 3 sisi

4.

SELECT

Nama bangun datar dibawah ini adalah



PERSEGI

SEGITIGA

PERSEGI PANJANG

LINGKARAN



LKPD

BANGUN DATAR

5.

WORD SEARCH

Temukan 3 kata pada kotak dibawah ini

S	S	I	S	I
M	U	L	I	B
O	S	D	K	T
D	K	C	U	K
U	G	X	M	T

6.

SPEAK

Sebutkan nama bangun data berikut dengan tepat!



7.

LISTENING

Dengarkan suara berikut dan tuliskan jawabannya dengan tepat!





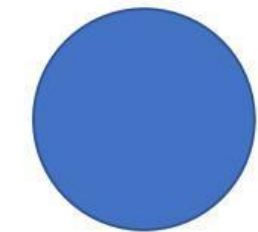
LKPD

BANGUN DATAR

8.

DRAG & DROP

Tentukan rumus yang sesuai dengan gambar



$$L = \frac{1}{2} \times \text{alas} \times \text{tinggi}$$

$$L = \text{Panjang} \times \text{Lebar}$$

$$L = \pi \times r \times r \times$$




LKPD

BANGUN DATAR

9.

JOIN

Buatlah garis ke jawaban yang benar



Persegi Panjang



Lingkaran



Segitiga