



LKPD

BANGUN DATAR

Perhatikan video berikut ini :



Perhatikan materi presentasi berikut ini :



Table 1materi





LKPD

BANGUN DATAR

1

TEKFIELD

Bangun datar segi empat yang keempat sisinya sama panjang dan keempat sudutnya sama siku-siku atau 90° adalah

2

Single Choice

Berikut ini yang bukan merupakan bangun datar adalah....

3

CHECKBOXES

Pernyataan yang benar adalah.....

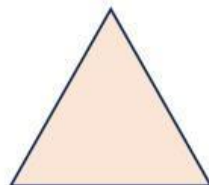
Persegi memiliki 4 sisi Lingkaran memiliki 6 sisi segitiga memiliki 3 sisi

4

SELECT

Nama bangun datar dibawah ini adalah....

5



Persegi segitiga

Persegi panjang lingkaran



LKPD

BANGUN DATAR

6

WORD SEARCH

Tentukan 3 kata pada kotak di bawah ini.

S	S	I	S	I
M	U	L	I	N
O	S	D	K	T
D	K	C	U	K
U	G	X	M	T

7

SPEAK

Sebutkan nama bangun datar tersebut dengan tepat!





LKPD

BANGUN DATAR

7

LISTENING

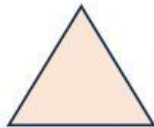

Dengarkan suara berikut dan tuliskan jawabannya dengan tepat!



8

DRAG & DROP

Tentukan rumus yang sesuai dengan gambar.



$$L = \frac{1}{2} \times \text{alas} \times \text{tinggi}$$

$$L = \text{Panjang} \times \text{lebar}$$

$$L = \pi \times r \times r$$



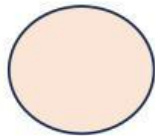
LKPD

BANGUN DATAR

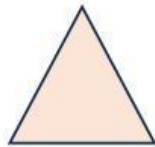
9

JOIN

Buatlah garis ke jawaban yang benar



Persegi Panjang



Lingkaran



Segitiga