





LKPD

BANGUN DATAR

Perhatikan video berikut ini:



Perhatikan materi presentasi berikut ini:



Materi



Materi



LKPD

BANGUN DATAR

1

TEKSFIELD

Bangun datar segi empat yang keempat sisinya sama panjang dan keempat sudutnya siku-siku atau 90° adalah...

2

SINGLE CHOICE

Berikut ini yang bukan merupakan bangun datar adalah...

3

CHECKBOXES

Pernyataan yang benar adalah...

Persegi memiliki 4 sisi

Lingkaran memiliki 6 sisi

Segitiga memiliki 3 sisi

4

SELECT

Nama bangun datar di bawah ini adalah...



Persegi

Segitiga

Persegi panjang

Lingkaran



LKPD

BANGUN DATAR

5

WORD SEARCH

Temukan 3 kata pada kotak di bawah ini

S	S	I	S	I
M	U	L	I	N
O	S	D	K	T
D	K	C	U	K
U	G	X	M	T

6

SPEAK

Sebutkan nama bangun datar berikut dengan tepat!





LKPD

BANGUN DATAR

7

LISTENING

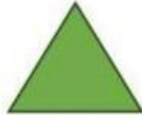
Dengarkan suara berikut dan tuliskan jawabannya dengan tepat!



8

DRAG & DROP

Tentukan rumus yang sesuai dengan gambar



$$L = \frac{1}{2} \times \text{alas} \times \text{tinggi}$$

$$L = \text{Panjang} \times \text{lebar}$$

$$L = \pi \times r \times r$$



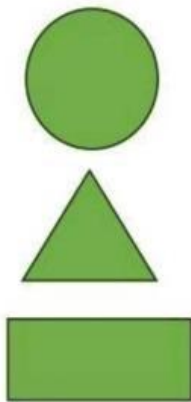
LKPD

BANGUN DATAR

9

JOIN

Buatlah garis ke jawaban yang benar



Persegi Panjang

Lingkaran

Segitiga