


LKPD

BANGUN DATAR

Perhatikan video berikut ini :



Perhatikan materi presentasi berikut ini :



Materi



Materi

LKPD

BANGUN DATAR

1

TEKSFIELD

Bangun datar segi empat yang keempat sisinya Panjang dan keempat sisinya siku-siku 90°

2

SINGLE CHOICE

Berikut ini yang bukan bangun datar adalah....

3

CHECKBOXES

Penyataan yang benar adalah....

Persegi memiliki 4 sisi Lingkaran memiliki 6 sisi Segitiga memiliki 3 sisi

4

SELECT

Nama bangun datar di bawah ini adalah....



Persegi

Segitiga

Persegi panjang

Lingkaran

LKPD

BANGUN DATAR

5

WORD SEARCH

Temukan kata pada kotak di bawah ini

S	S	I	S	I
M	U	L	I	N
O	S	D	K	I
D	K	C	U	K
U	G	X	M	T

6

SPEAK

Sebutkan nama bangun datar berikut dengan tepat!



7

LISTENING

Dengarkan suara berikut dan tuliskan jawabannya dengan tepat !



LKPD

BANGUN DATAR

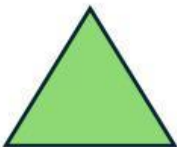
8

DRAG & DROP

Tentukan rumus yang sesuai dengan gambar



$$L = \frac{1}{2} \times \text{alas} \times \text{tinggi}$$



$$L = \text{Panjang} \times \text{lebar}$$



$$L = \pi \times r \times r$$

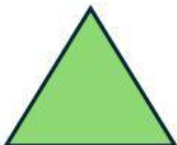
9

JOIN

Buatlah garis ke jawaban yang benar



Persegi panjang



Lingkaran



Segitiga