




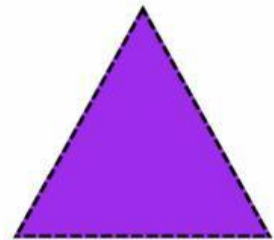


Hoja de trabajo Tercer Grado

Nombre:

Fecha:

¿Quién será?

Arrastra el nombre de las figuras geométricas y pégalo donde corresponda.



cuadrado

rombo

círculo

triángulo

pentágono

rectángulo

octágono

hexágono