

HABITATUL ANIMALELOR

tiințe ale naturii - Clasa I

Numele: _____

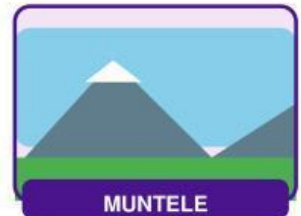
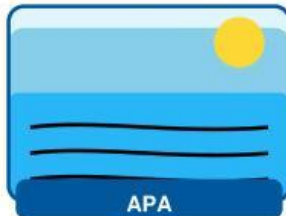
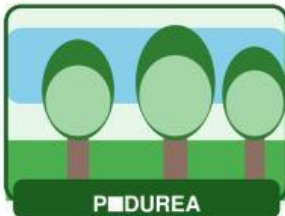
Data: _____

Clasa: _____

Obiectiv: Să recunosc habitatul (locul unde trăiește) al unor animale cunoscute.

CS 2.1 – Identificarea unor caracteristici ale mediului de viață al animalelor.

↳ **Identifică cele patru habitate pe care le vom folosi în această fișă:**



1 Scrie unde trăiește fiecare animal! (4 puncte)

↳ Scrie pe linie numele habitatului. (Pe Liveworksheets vei tasta răspunsul în câmpul.)

peștele	trăiește la / în: _____	leul	trăiește la / în: _____
ursul	trăiește la / în: _____	vulturul	trăiește la / în: _____
broasca	trăiește la / în: _____	lupul	trăiește la / în: _____

2 Unește animalul cu habitatul lui! (4 puncte)

↳ Trage o linie de la animal la locul unde trăiește. (Pe Liveworksheets vei folosi elementul JOIN pentru a uni imaginile.)

albina	apa
rechinul	pădurea
capra	muntele
vulpea	câmpul

Răspunsuri corecte (pentru profesor): albina → câmpul, rechinul → apa, capra → muntele, vulpea → pădurea

3 Adevărat (A) sau Fals (F)? (4 puncte)

↳ Încercuiește A dacă enunțul este adevărat sau F dacă este fals. (Pe Liveworksheets vei bifa răspunsul corect.)

1. Peștele trăiește în apă.	<input type="checkbox"/> A	<input type="checkbox"/> F
2. Ursul trăiește la munte sau în pădure.	<input type="checkbox"/> A	<input type="checkbox"/> F
3. Vrabia trăiește sub pământ.	<input type="checkbox"/> A	<input type="checkbox"/> F

4. Capra neagră trăiește la munte.

A

F

4 Sortează animalele după habitat! (4 puncte)

■ ■ Scrie fiecare animal în căsuța habitatului potrivit. (Pe Liveworksheets vei selecta din dropdown sau vei tasta.)

Animale: ■ pește · ■ vultur · ■ albină · ■ urs · ■ rânunc · ■ capră

■ Pădure	■ Apă	■ Câmp	■ Munte
<hr/> <hr/> <hr/>	<hr/> <hr/> <hr/>	<hr/> <hr/> <hr/>	<hr/> <hr/> <hr/>

Răspunsuri corecte (pentru profesor): Pădure → urs | Apă → pește, rânunc | Câmp → albină | Munte → vultur, capră

■ ■ Ghid Liveworksheets – elemente interactive

① Text box	Ex. 1 – elevul tastează numele habitatului
② Join (linie)	Ex. 2 – trasează linie animal → habitat
③ Select A/F	Ex. 3 – bifează Adevărat sau Fals
④ Dropdown / Text	Ex. 4 – sortare animale în habitatul corect

Făcut realizat pentru www.liveworksheets.com · Punct total: 16 puncte + 1 punct din oficiu · Clasa I – ținute ale naturii