


# LEMBAR KERJA PESERTA DIDIK (LKPD)



NAMA : BIGARI WIWANDA,S.Pd  
MAPEL : MATEMATIKA  
KELAS : VII  
INSTANSI : SMPN 2 LUBUK BESAR


# HUBUNGAN ANTAR GARIS

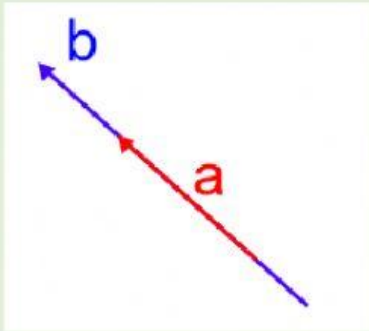


A yellow notepad with a pink ribbon tied around it. The notepad has three punch holes at the top and a small tab on the right side.

NAMA :  
KELAS :  
NO :

Perhatikan video berikut!





Bagaimana kedudukan garis a dan garis b?

Pilihlah dari jawaban A, B, C atau D jawaban yang dianggap benar!

Terdapat dua bidang saling berpotongan dan tidak berhimpitan, maka perpotongannya berbentuk ....

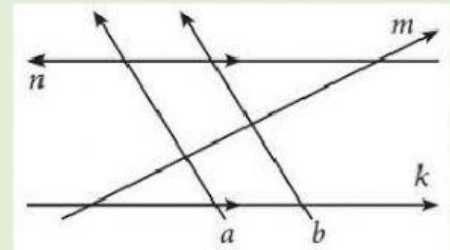
- A. Titik
- B. Garis
- C. Bidang
- D. Ruang

Berikan tanda centang pada jawaban yang benar!

Berdasarkan gambar berikut.

Pernyataan yang benar:

- ☐ Garis a sejajar garis b
- ☐ Garis a sejajar dengan garis m
- ☐ Garis m berpotongan dengan garis b
- ☐ Garis k berhimpit dengan garis n

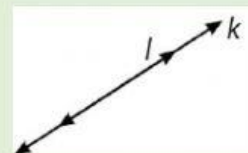
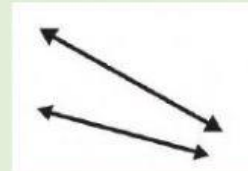
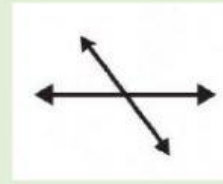


Tarik garis lurus, jodohkanlah hubungan antar garis berikut.

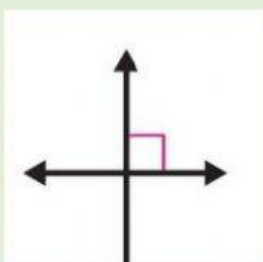
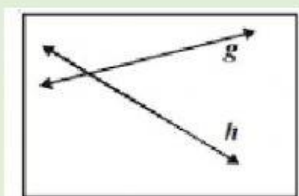
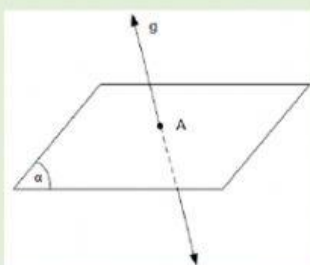
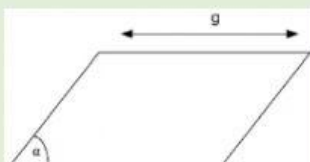
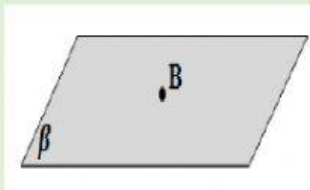
SEJAJAR

BERHIMPIT

BERPOTONGAN



Berilah keterangan pada gambar yang sesuai!



Garis berpotongan

Garis berpotongan  
tegak lurus

Titik pada bidang

Garis di luar bidang

Garis menembus bidang