



LATIHAN 1 JENIS-JENIS SUDUT



Berburu Sudut di Rumah Banjar!

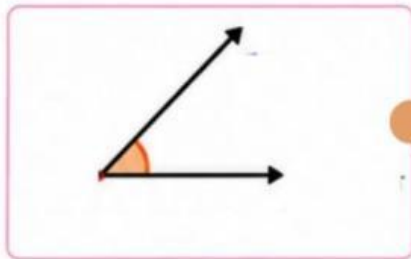
Ayo cari sudut di rumah Banjar!

Amati gambar sudut di kiri, lalu hubungkan dengan bagian rumah Banjar di tengah dan nama sudut di kanan yang sesuai!

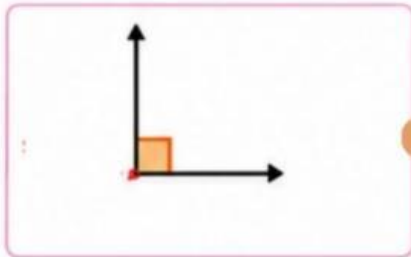
Nama: _____

Kelas: _____

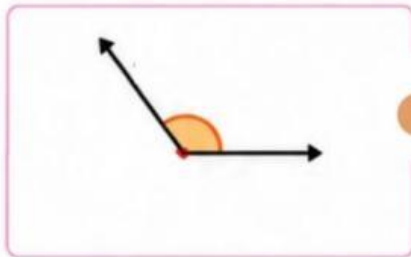
Ingat!
Sudut adalah bukaan yang terbentuk dari dua garis yang bertemu pada satu titik.



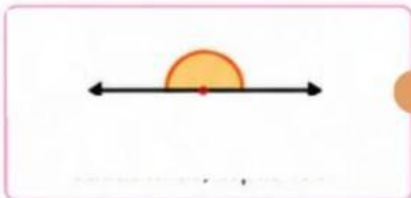
Sudut Tumpul



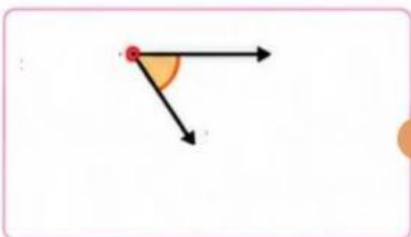
Sudut Lancip



Sudut Siku-siku



Sudut Refleks



Sudut Lurus



Hebat! Kamu sudah belajar mengenali sudut di rumah Banjar.
Terus semangat belajar dan amati sudut di sekitarmu!



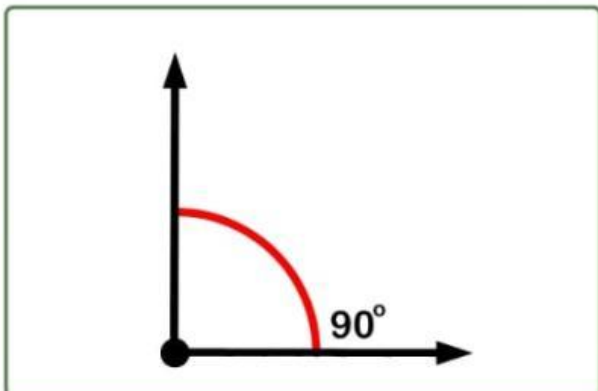
LATIHAN 2

SUDUT DAN BESARNYA

Nama: _____

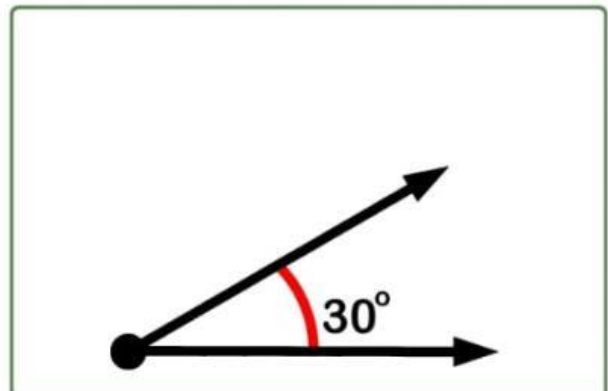
Kelas: _____

Amatilah gambar sudut di bawah ini. Tuliskan nama jenis sudut berdasarkan besar sudutnya dengan tepat!

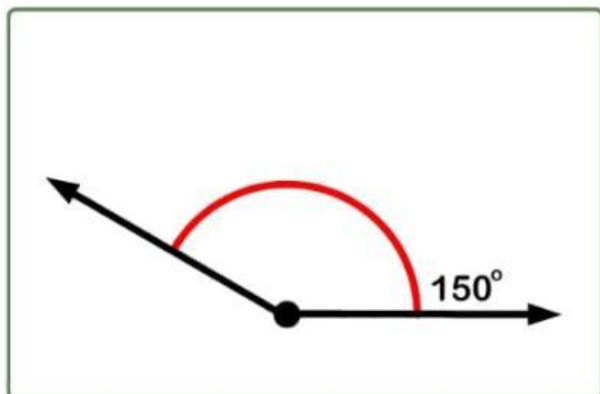


Sudut siku-siku

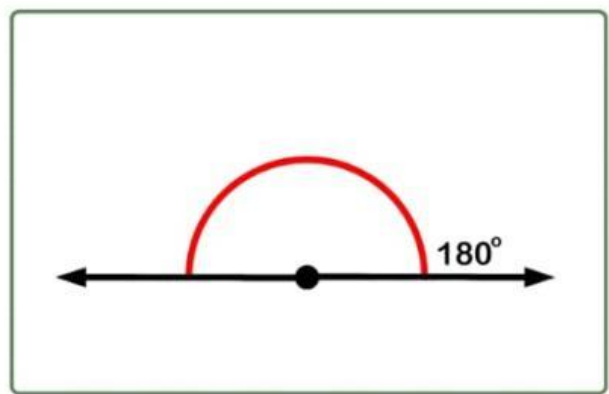
.....



.....



.....



.....

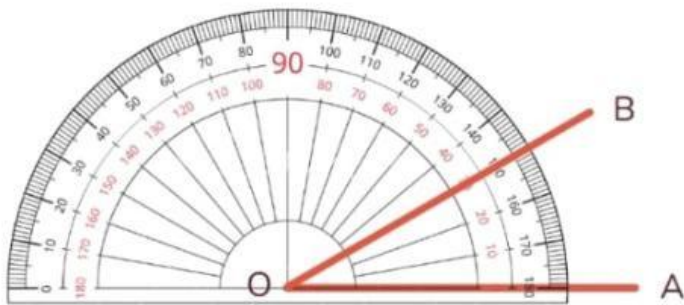
LATIHAN 3

MENGUKUR SUDUT MENGGUNAKAN BUSUR DERAJAT

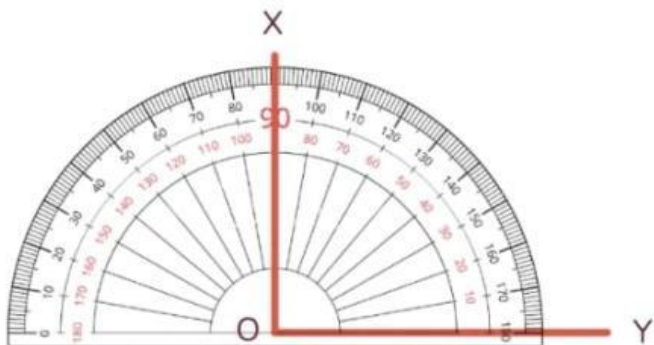
Nama: _____

Kelas: _____

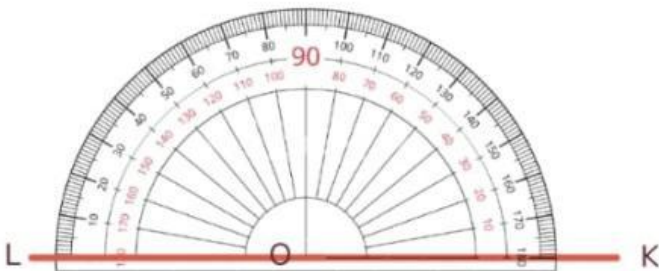
Nyatakan ukuran sudut yang ditunjukkan dengan menggunakan busur derajat.



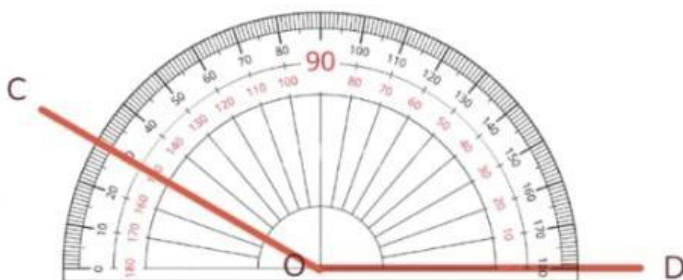
$$\angle AOB = \dots\dots\dots$$



$$\angle XOY = \dots\dots\dots$$



$$\angle KOL = \dots\dots\dots$$



$$\angle COD = \dots\dots\dots$$