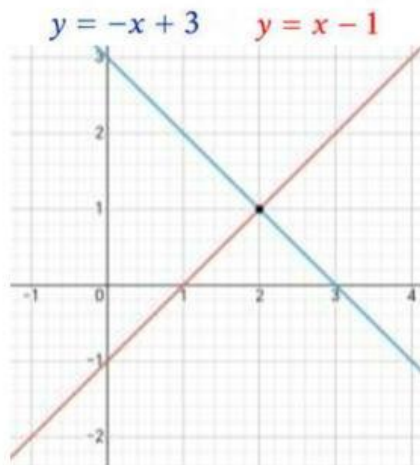
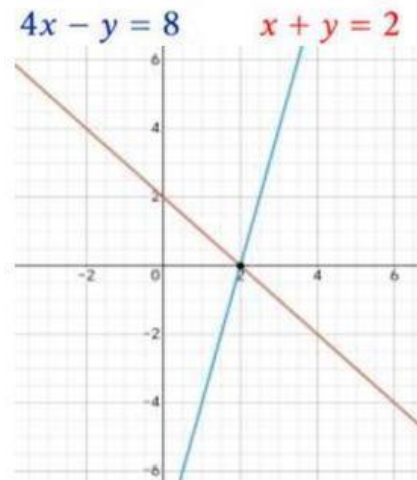


Encuentra el punto de intersección de las siguientes gráficas.

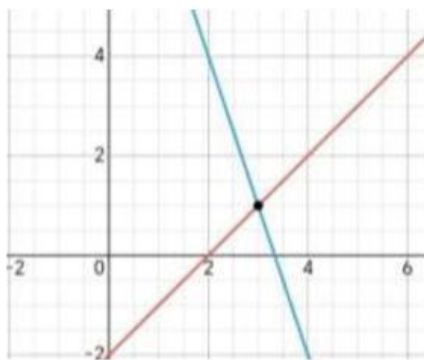


Intersección: (_____ , _____)



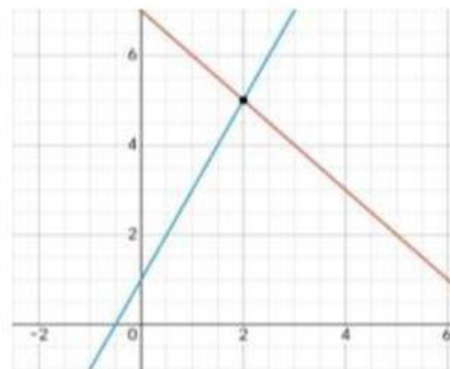
Intersección: (_____ , _____)

$3x + y = 10$ $x - y = 2$



Intersección: (_____ , _____)

$y = 2x + 1$ $y = -x + 7$



Intersección: (_____ , _____)

Encuentra el punto de intersección del siguiente ejercicio.

$y = 2x + 1$

$y = -x + 4$

Intersección: (_____ , _____)