

LKPD

MATEMATIKA

Sekolah Dasar



Nama:

Kelas:

LATIHAN SOAL CERITA SEDERHANA



PETUNJUK :

Bacalah setiap soal dan tulis jawaban yang benar!



Saya punya 2 buah apel. Saya akan membeli 3 buah lagi. Berapa banyak apel yang saya punya sekarang?



Ada 5 burung di pohon. 2 terbang menjauh. Berapa banyak yang tersisa?



Kamu punya 4 permen dan temanmu memberimu 1 lagi. Berapa banyak yang kamu punya?



Tom punya 6 balon. Dia memberikan 2 balon kepada Anna. Berapa banyak balon yang dia punya sekarang?

Belajar Sambil Bermain Asyik di Kolam Renang

Petunjuk: Ayo perhatikan gambar di bawah ini ya, cermati supaya bisa menjawab pertanyaan dengan benar!



Ayo kerjakan soal pilihan ganda berikut, dengan melihat gambar di atas!


- 1 Ada berapa Anak yang berenang di pantai ...
a. 4 b. 2 c. 3
- 2 Ada berapa ikan yang berada dipantai...
a. 4 b. 6 c. 3
- 3 Ada berapa Anak yang berenang dengan pelampung ...
a. 1 b. 3 c. 5
- 4 Ada berapa burung yang melintas diatas pantai...
a. 3 b. 7 c. 5
- 5 Ada berapa pelampung cincin berwarna merah ...
a. 4 b. 5 c. 6
- 6 Ada berapa pohon kelapa yang terlihat di taman ...
a. 1 b. 2 c. 3

BILANGAN PECAHAN

Pasangkanlah gambar di sebelah kiri dengan bilangan pecahan yang sesuai!




$$\frac{1}{3}$$



$$\frac{3}{6}$$




$$\frac{3}{7}$$



$$\frac{1}{2}$$



$$\frac{1}{9}$$



$$\frac{2}{10}$$