
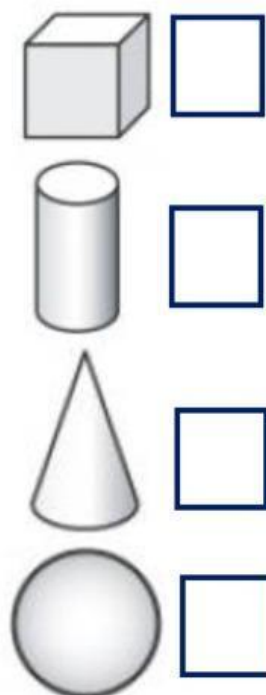


## Заняття № 35 «Числа від 1 до 10. Геометричні фігури»


Як називаються ці фігури? Назвіть їх.



Розглянь уважно споруду та порахуй: куби, циліндри, конуси, кулі.



Чому з кулею не будують споруд?  
Назвіть плоскі геометричні фігури?



Чим вони відрізняються  
від об'ємних?

## Логічні задачі

Мавпа шила собі жилетку.

Зробила в ній чотири петельки і пришила п'ять гудзиків.



Скільки стане гудзиків і петель, якщо забрати один гудзик?

Слоненя зірвало з однієї пальми 2 банани, а з іншої – на 1 більше. Усі банани воно склало в кошик.



Скільки всього бананів склало слоненя?

Папуга вирішив порахувати, скільки всього лап у його друзів Мавпи й Слоненяти.



--	--	--	--	--	--

Вправа «Доміно» Допоможи правильно поставити крапки відповідно до кожного числа.

