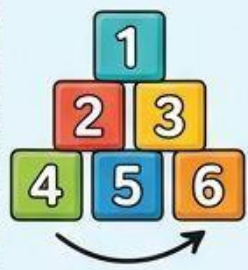


2-СЫНЫП МАТЕМАТИКА: ТАПСЫРМАЛАР ЖИНАҒЫ



1. ҚОСУ ЖӘНЕ АЗАЙТУ



✓ $23 + 15 = \underline{\quad}$

✓ $65 - 24 = \underline{\quad}$

✓ $48 + 27 = \underline{\quad}$

✓ $90 - 37 = \underline{\quad}$

✓ $65 - 24 = \underline{\quad}$


✓ $36 + 19 = \underline{\quad}$

✓ $90 - 37 = \underline{\quad}$

✓ $74 - 28 = \underline{\quad}$



2. ЖАҚШАСЫЗ ЕСЕПТЕР



- 1) $12 + 8 + 5 = \underline{\quad}$
- 2) $30 - 10 + 7 = \underline{\quad}$
- 3) $25 + 15 - 20 = \underline{\quad}$
- 4) $40 - 5 - 10 = \underline{\quad}$
- 5) $18 + 22 + 10 = \underline{\quad}$



3. САЛЫСТЫРУ

, < немесе = БЕЛГІСІН ҚОЙ



1) $45 \underline{\quad} 54$



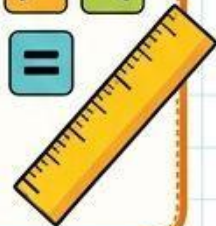
2) $60 \underline{\quad} 60$



3) $72 \underline{\quad} 69$

4) $33 \underline{\quad} 38$

5) $90 \underline{\quad} 81$



4. МӘТІНДІ ЕСЕПТЕР




1) Дүкенде 25 алма болды. Тағы 17 алма әкелінді. Барлығы неше алма болды?



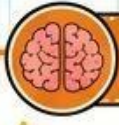

2) Асанда 40 теңге бар еді. Ол 15 теңге жұмсады. Қанша теңге қалды?



3) Сыныпта 28 оқушы бар. Оның 12-сі ұл бала. Қыз бала нешеу?



4) Бір қорапта 20 қарындаш бар. Екінші қорапта 35 қарындаш бар. Барлығы неше қарындаш?



5. ЛОГИКАЛЫҚ ТАПСЫРМАЛАР



1) 10, 20, 30, ____, ____ (Келесі екі санды жаз)

2) 2, 4, 6, ____, ____

3) Егер $5 + 5 = 10$ болса, $10 + 5 = \underline{\quad}$

4) Бір алма 10 теңге тұрса, 3 алма неше теңге тұрады?

