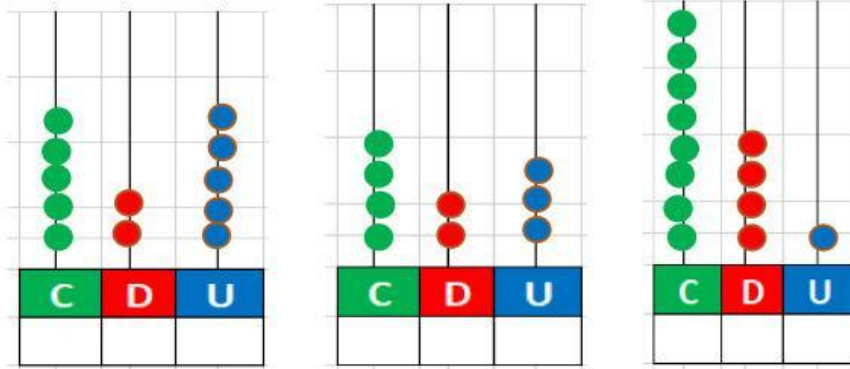
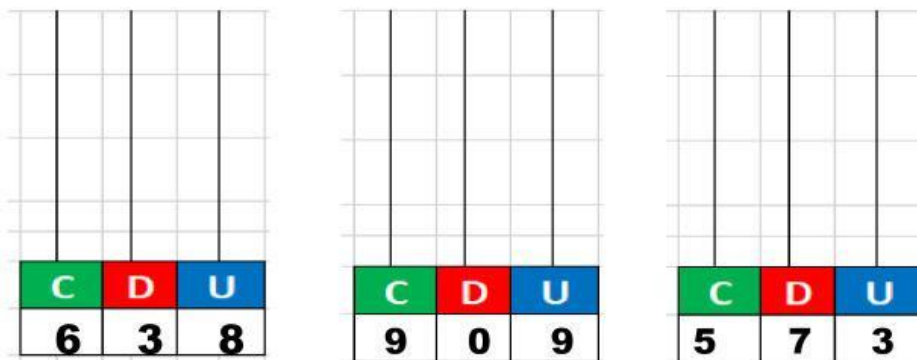


# UNIDADES, DECENAS Y CENTENAS EN EL ÁBACO

1. Escriba las cifras que se indican en el ábaco



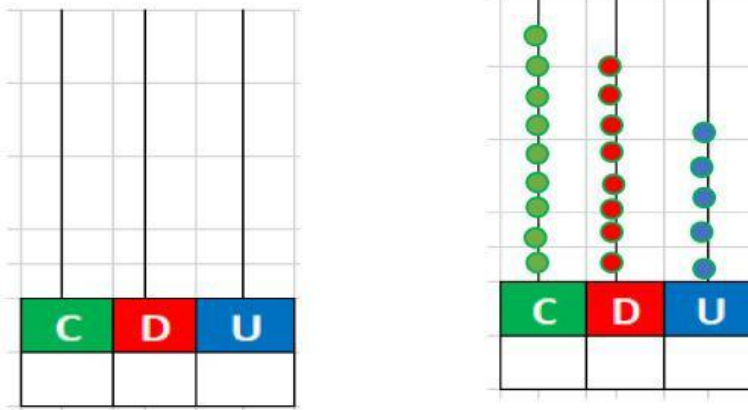
2. Dibuje en el ábaco las cuentas según el número.



3. Sume y reste según corresponda

$$345 + 256 = \boxed{\phantom{000}}$$

$$985 - 366 = \boxed{\phantom{000}}$$



4. Lea y escriba el número según corresponda.

Trecientos cuarenta y cinco

Cuatrocientos ochenta y seis

Novcientos setenta