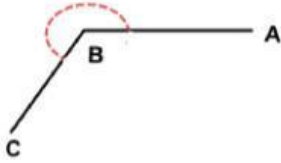


Soal Latihan PSAS Matematika Kelas 5

SDIT Salman Al Farisi 2

1. Perhatikan gambar berikut!



Sudut pada gambar di atas adalah ...

- A. sudut lancip
- B. sudut siku-siku
- C. sudut tumpul
- D. sudut refleks

2. Sudut yang besarnya kurang dari  $90^\circ$  disebut ...

- A. sudut tumpul
- B. sudut siku-siku
- C. sudut lancip
- D. sudut lurus

3. Sudut  $135^\circ$  termasuk ...

- A. sudut lancip
- B. sudut siku-siku
- C. sudut tumpul
- D. sudut penuh

4. Sudut lurus besarnya adalah ...

- A.  $90^\circ$
- B.  $180^\circ$
- C.  $270^\circ$
- D.  $360^\circ$

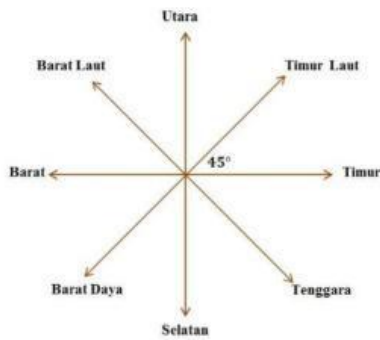
5. Sudut penuh besarnya ...

- A.  $180^\circ$
- B.  $270^\circ$
- C.  $360^\circ$
- D.  $90^\circ$

6. Sudut yang lebih dari  $90^\circ$  tetapi kurang dari  $180^\circ$  disebut ...

- A. lancip
- B. tumpul
- C. siku-siku
- D. lurus

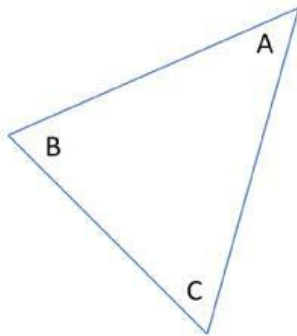
**7. Perhatikan gambar berikut!**



Sudut yang terbentuk dari arah timur dan barat laut menunjukkan sudut ....

- A.  $30^\circ$
- B.  $45^\circ$
- C.  $90^\circ$
- D.  $135^\circ$

**8. Perhatikan gambar berikut!**



Jika sudut  $A = 45^\circ$  dan sudut  $B = 60^\circ$ , maka besar sudut C adalah ...

- A.  $70^\circ$
- B.  $75^\circ$
- C.  $80^\circ$
- D.  $85^\circ$

**9. Bangun datar yang memiliki 4 sisi sama panjang dan 4 sudut siku-siku adalah ...**

- A. persegi panjang
- B. persegi
- C. jajar genjang
- D. layang-layang

**10. Bangun datar yang memiliki dua pasang sisi sejajar dan dua pasang sudut sama besar....**

- A. belah ketupat
- B. trapesium
- C. persegi
- D. segitiga

**11. Perhatikan gambar berikut!**



Persegi panjang mempunyai ... pasang sisi sejajar.

- A. 1
- B. 2
- C. 3
- D. 4

**12. Bangun datar yang memiliki diagonal berpotongan saling tegak lurus yaitu....**

- A. trapesium
- B. jajargenjang
- C. layang-layang
- D. persegi panjang

**13. Bangun yang TIDAK memiliki simetri lipat adalah...**

- A. jajargenjang
- B. persegi panjang
- C. layang-layang
- D. belah ketupat

**14. Bangun yang memiliki dua diagonal saling tegak lurus dan saling membagi 2 sama panjang adalah ...**

- A. persegi panjang
- B. belah ketupat
- C. trapesium
- D. lingkaran

**15. Belah ketupat memiliki simetri putar sebanyak....**

- A. 1
- B. 2
- C. 3
- D. 4

**16. Bangun yang hanya memiliki satu pasang sisi sejajar adalah ...**

- A. persegi
- B. trapesium
- C. belah ketupat
- D. persegi panjang

17. Data nilai ulangan kelas 5 sebagai berikut:

8, 7, 9, 8, 6, 8, 7, 9, 8, 7, 7, 9, 8, 6, 9, 8, 7

Nilai yang paling kecil adalah ...

- A. 6
- B. 7
- C. 8
- D. 9

18. Perhatikan gambar berikut!

Nama Buah	Jumlah Buah
Pisang	
Apel	
Jeruk	
Stroberi	
Semangka	

Gambar di atas merupakan diagram ...

- A. pictogram
- B. batang
- C. garis
- D. tabel

19. Data: 5, 7, 8, 10, 4, 5, 9, 8, 7, 5, 10, 8, 7

Selisih nilai tertinggi dan terendah adalah ...

- A. 6
- B. 5
- C. 4
- D. 3

20. Data hasil panen padi tiap tahun akan mudah dipahami jika disajikan dalam bentuk....

- A. tabel
- B. narasi
- C. cerita
- D. kalimat

21. Jumlah siswa kelas 5 ada 30 anak.

Apabila terdapat 18 siswa laki-laki, maka siswa perempuan ada ....

- A. 10
- B. 11
- C. 12
- D. 13

**22. Data berikut yang paling kecil adalah:**

450, 405, 540, 504

- A. 450
- B. 405
- C. 540
- D. 504

**23. Bilangan tujuh ratus tiga puluh lima ribu ditulis ...**

- A. 735.000
- B. 753.000
- C. 735.500
- D. 703.500

**24. Angka 6 pada 468.321 menempati nilai ...**

- A. puluhan
- B. ratusan
- C. ribuan
- D. puluh ribuan

**25. Bilangan terbesar dari:**

456.789, 465.789, 456.978

- A. 456.789
- B. 456.978
- C. 465.789
- D. 456.879

**26. 575.960 ... 575.690**

Tanda yang tepat untuk mengisi titik-titik Adalah....

- A. <
- B. >
- C. =
- D. ≤

**27. Urutan dari terkecil:**

345.000, 298.000, 410.000 adalah....

- A. 298.000, 345.000, 410.000
- B. 345.000, 298.000, 410.000
- C. 410.000, 345.000, 298.000
- D. 298.000, 410.000, 345.000

**28. Nilai tempat angka 3 pada 234.567 adalah ...**

- A. ratus ribuan
- B. puluh ribuan
- C. ribuan
- D. ratusan

**29. Perhatikan pola bilangan berikut!**

**585.000, 590.000, ... , 600.000**

Bilangan sebelum 600.000 adalah ...

- A. 590.500
- B. 595.000
- C. 595.500
- D. 596.000

**30. Kakak membawa 7 lembar uang seratus ribuan dan 4 lembar uang lima puluh ribuan untuk membeli Sepatu seharga Rp835.500,00. Uang kembalian kakak Adalah....**

- A. Rp63.500,00
- B. Rp64.500,00
- C. Rp73.500,00
- D. Rp74.500,00