

النشاط القبلي: صندوق الأدلة الهندسية

صلي كل دليل هندسي بالإجابة الصحيحة


الأدلة الهندسية (الغاز)



اللغز 1: أنا زاوية تشبه ركن الكتاب تماماً، وقياسي يساوي 90 درجة.. من أنا؟



اللغز 2: نحن خطان مستقيمان نسير معاً جنباً إلى جنب، نمتد إلى ما لا نهاية ولكننا لا نلتقي أبداً.. فمن نحن؟



اللغز 3: أمامكن مثلث متساوي الأضلاع؛ ماذا نعني بكلمة أضلاع أضلاع متطابقة؟

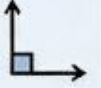
إنهاء النشاط

صناديق الإجابات


الإجابة أ: الخطوط المتوازية



الإجابة ب: الزاوية القائمة



الإجابة ج: أضلاع متساوية في الطول تماماً



LIVEWORKSHEETS

الصف الخامس - مادة الرياضيات - الوحدة 15 - مدرسة [اسم المدرسة]