

عد واختر الاجابه الصحيحه



أحسب و اكتب العدد المناسب في كل سلة برتقال




٦

٧

٨






٩

ضع علامة > < =

	<input type="text"/>	
	<input type="text"/>	
	<input type="text"/>	
	<input type="text"/>	



صل بين العدد و الصورة المناسبة

	<input type="text" value="5"/>
	<input type="text" value="2"/>
	<input type="text" value="4"/>
	<input type="text" value="3"/>
	<input type="text" value="1"/>