

# LKPD


## Ilmu Pengetahuan Alam

Tema: Sistem Pernafasan Manusia

Nama Kelompok :

- 1.
- 2.
- 3.
- 4.
- 5.

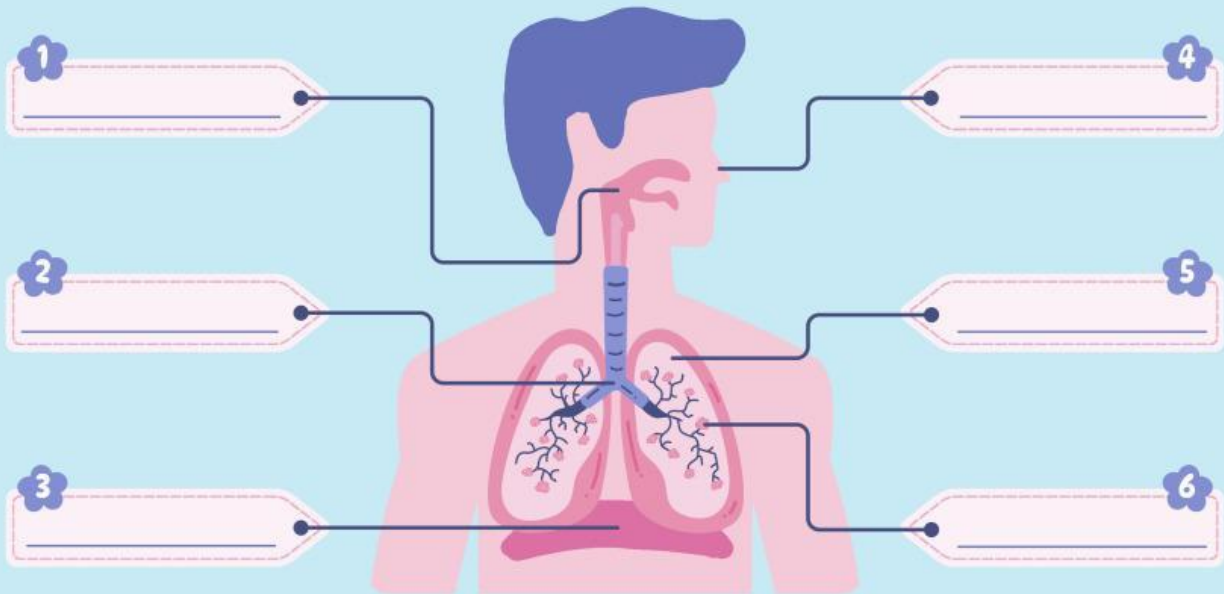
Kelas :



## Sistem

# Pernapasan Manusia

A. Tuliskan nama organ pernapasan manusia pada kolom di bawah ini!



B. Jelaskan proses yang terjadi pada tahap pernapasan di bawah ini!

1 Menghirup nafas:

---

---

2 Pertukaran antara oksigen dan karbon dioksida:

---

---

3 Mengembuskan nafas:

---

---

# SISTEM PERNAPASAN

LARING

TRAKEA


BRONKUS

BRONKIOLUS

ALVEOLUS

# TEKA-TEKI SILANG

## Sistem Pernapasan Manusia



### Menurun

2. Yang mempengaruhi jumlah napas manusia
3. Percabangan dari bronkus
5. Organ pernapasan sebagai tempat pertukaran oksigen dan karbondioksida
6. Gas yang masuk saat bernapas
7. Organ pernapasan utama pada manusia
9. Pernapasan yang melibatkan otot diafragma

### Mendatar

1. Organ pernapasan sebagai tempat menyaring, membersihkan, dan melembapkan udara yang masuk
4. Letak pita suara
8. Gangguan sistem pernapasan yang bergejala batuk, pilek, dan demam
10. Proses keluarnya udara dari paru-paru