

Lembar Kerja Peserta Didik

LKPD IPAS

Topik : Bagian Tubuh Tumbuhan Dan
Fungsinya

Kelas IV SD/Mi

Kelompok :


Nama anggota Kelompok

Di susun Oleh :


1. Siti Aisyah Nurfadillah
2. Umairo

Kelompok :

Hubungkan gambar bagian tumbuhan di bawah ini,
dengan namanya!



Daun



Buah



Akar



Batang




Bunga

HARI : _____

TANGGAL : _____

MENGENAL BAGIAN TUMBUHAN DAN FUNGSINYA

Amatilah gambar tumbuhan berikut dan isilah tabel di bawah!



NO	NAMA	FUNGSI
1		
2		
3		
4		
5		