







Nama :

Kelas :

DATA PIKTOGRAM

Perhatikan data pada pictogram berikut ini kemudian tentukan pernyataan di bawah merupakan pernyataan yang benar atau salah!

Data Jumlah Penjualan Kue di Kantin

Hari	Jumlah
Senin	
Selasa	
Rabu	
Kamis	
Jumat	
Sabtu	

Pernyataan

Benar Salah

- Jumlah kue yang terjual pada hari Senin adalah 6. Benar Salah
- Hari Kamis adalah hari dengan jumlah kue terjual paling sedikit. Benar Salah
- Jumlah kue yang terjual pada hari Selasa lebih banyak daripada hari Rabu. Benar Salah
- Hari Jumat memiliki jumlah penjualan kue paling banyak. Benar Salah
- Jumlah kue pada hari Rabu sama dengan hari Kamis. Benar Salah
- Jumlah penjualan kue pada hari Sabtu adalah yang paling sedikit. Benar Salah
- Total kue yang terjual selama 6 hari adalah 27. Benar Salah







Nama :

Kelas :

DATA PIKTOGRAM

Perhatikan data pada pictogram berikut ini kemudian tentukan pernyataan di bawah merupakan pernyataan yang benar atau salah!

Data Jumlah Penjualan Kue di Kantin

Hari	Jumlah
Senin	
Selasa	
Rabu	
Kamis	
Jumat	
Sabtu	

Pernyataan

Benar Salah

- Jumlah kue yang terjual pada hari Senin adalah 6. Benar Salah
- Hari Kamis adalah hari dengan jumlah kue terjual paling sedikit. Benar Salah
- Jumlah kue yang terjual pada hari Selasa lebih banyak daripada hari Rabu. Benar Salah
- Hari Jumat memiliki jumlah penjualan kue paling banyak. Benar Salah
- Jumlah kue pada hari Rabu sama dengan hari Kamis. Benar Salah
- Jumlah penjualan kue pada hari Sabtu adalah yang paling sedikit. Benar Salah
- Total kue yang terjual selama 6 hari adalah 27. Benar Salah