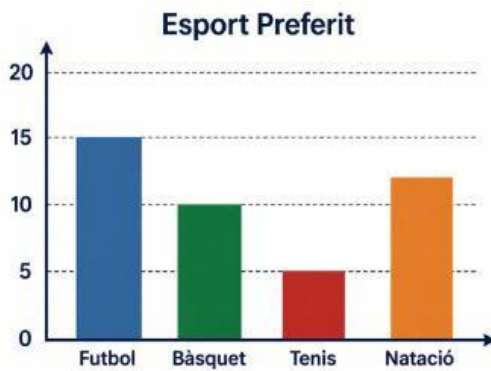


## Interpretem Gràfics Estadístics

### 1. Diagrama de Barres: Esports



1. Quin és l'esport més popular i quantes persones l'han triat?

.....

.....

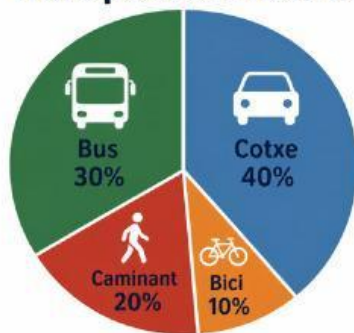
2. Quantes persones en total prefereixen el bàsquet o el tennis?

.....

.....

### 2. Diagrama de Sectors: Transport

#### Transport a l'Institut



3. Quin mitjà de transport utilitza la majoria de l'alumnat per anar a l'Institut?

.....

.....

4. Si a l'Institut hi ha 200 alumnes en total, quants hi van caminant?

.....

.....

### 3. Pictograma: Lectura de Llibres

Llibres Llegits	
Gener	
Febrer	
Març	
Abril	

 1 icona = 2 llibres

5. Quants llibres en total es van llegir al mes de gener?

.....

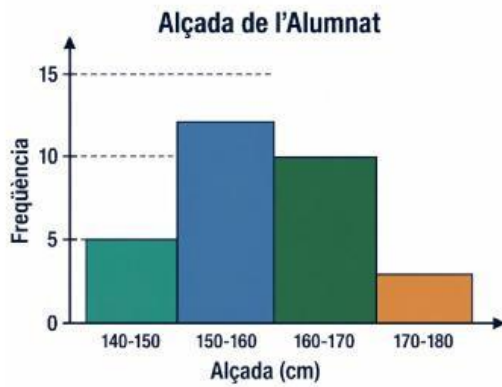
.....

6. En quin mes es van llegir exactament 8 llibres?

.....

.....

## 4. Histograma: Alçada de l'Alumnat



7. En quin interval d'alçada hi ha més alumnes?

.....

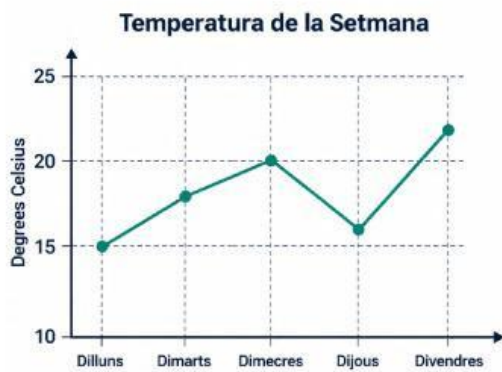
.....

8. Quants alumnes mesuren 160 cm o més?

.....

.....

## 5. Diagrama de Línies: Temperatura



9. Quina va ser la temperatura més alta de la setmana i quin dia es va registrar?

.....

.....

10. Quina va ser la diferència de temperatura entre el dimecres i el dijous?

.....

.....