

LEMBAR KERJA PESERTA DIDIK (LKPD)

Jodohkan pernyataan dengan jawaban yang tepat berdasarkan gambar!



A



B



C

Jerapah A ... daripada
jerapah B.

Jerapah B ... daripada
jerapah C.

Jerapah yang paling
tinggi adalah ...

Jerapah yang paling
pendek adalah ...

Urutan jerapah dari yang
paling tinggi adalah ...

Jerapah A














B, C, dan A

lebih pendek

lebih tinggi

Jerapah B

MEMBACA DIAGRAM GAMBAR

Jenis Sayur	Banyak siswa laki-laki & perempuan
	 
	 
	 
	 
	 

Jawablah Pertanyaan di bawah ini

1. Berapa jumlah siswa yang menyukai tomat?

2. Berapa jumlah siswa yang menyukai mentimun?

3. Sayur apa yang paling banyak disukai?

4. Sayur apa yang paling sedikit disukai?

5. Sayur apa yang paling banyak disukai laki-laki?

6. Sayur apa yang paling banyak disukai perempuan?