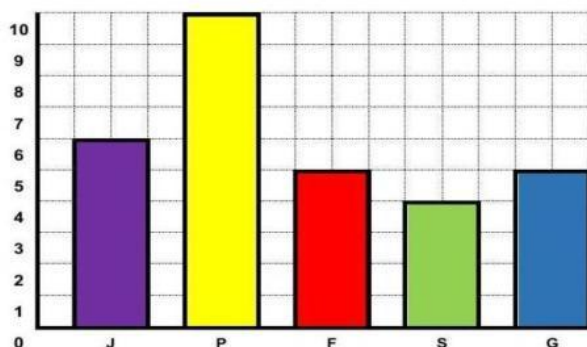




COLEGIO BILINGÜE LOS ÁNGELES

1. La profesora Marcela realizó una encuesta a los estudiantes grado primero **¿Para saber qué es lo que más le gusta de la lonchera ?** Los resultados obtenidos aparecen en el siguiente **Diagrama de barra**

Jugo	Ponqué	Fruta	Sanduche	Galletas
J	P	F	S	G



Observa el **DIAGRAMA DE BARRAS** y completa la tabla de frecuencia.

Tipos de alimentos	Total de alimentos
J	
P	
F	
S	
G	



2. Teniendo cuenta el **Diagrama de barra**, selecciona la respuesta correcta.

A. **¿Qué es lo que más le gusta de la lonchera a los estudiantes del grado primero ?**

- | |
|-----------------|
| A. El sanduche |
| B. Las galletas |
| C. La fruta |
| D. El ponqué |

B. **¿Qué es lo que menos le gusta de la lonchera a los estudiantes del grado primero ?**

- | |
|----------------|
| A. El jugo |
| B. El ponqué |
| C. El sanduche |
| D. La fruta |

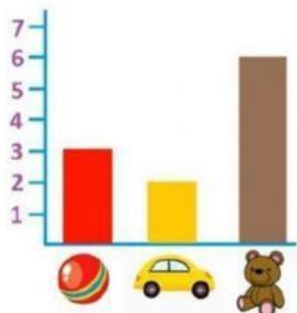
C. **¿A cuántos estudiantes le gusta de la lonchera las galletas ?**

- | |
|-------|
| A. 12 |
| B. 5 |
| C. 3 |
| D. 7 |

D. **¿A cuántos estudiantes le gusta de la lonchera la fruta?**

- | |
|-------|
| A. 8 |
| B. 4 |
| C. 10 |
| D. 5 |

Completa:



¿Cuántas pelotas hay?

¿Cuántos coches hay?

¿Cuántos ositos hay?

¿Qué juguete gusta más?



Completa:

¿Cuántas naranjas hay?

¿Cuántas fresas hay?

¿Cuántos plátanos hay?

¿Qué fruta gusta más?

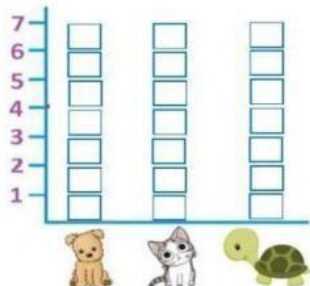


Cuenta y completa



	<input type="text"/>
	<input type="text"/>
	3

Dibuja tu gráfico de barras



¿Cuántos perros hay?

¿Cuántos gatos hay?

¿Cuántas tortugas hay?

¿Qué mascota gusta más?



¿Qué mascota gusta menos?





Secuencias Númericas

1.- Complete las siguientes secuencias, tome en cuenta el patrón indicado.

