

## PHIẾU BÀI TẬP CUỐI TUẦN

**Bài 1:** Sóc nâu có **9 hạt dẻ**. Em hãy giúp Sóc nâu kéo và thả các hạt dẻ vào **3 chiếc giỏ** sao cho số hạt dẻ ở hai giỏ bằng nhau. Sau đó điền phép tính vào ô trống bên dưới:

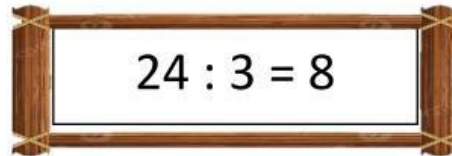


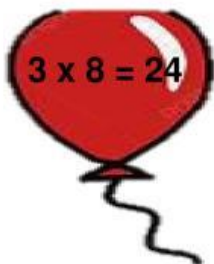
Phép tính:

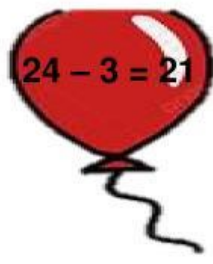
**Bài 2:** Hãy dùng ngón tay nối phép chia ở **Cột A** với phép nhân "chìa khóa" tương ứng ở **Cột B**, sau đó điền số vào ô trống [?].

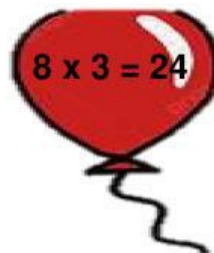
$: 5 = 3$	$4 \times 2 = 8$
$: 2 = 4$	$2 \times 5 = 10$
$: 5 = 2$	$3 \times 5 = 15$

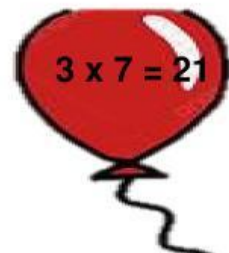
**Bài 3:** Các em hãy quan sát thật kỹ phép tính trong khung gỗ và nhấn vào những quả bóng bay có phép tính nhân liên quan đến phép chia trong khung gỗ.


$$24 : 3 = 8$$


$$3 \times 8 = 24$$


$$24 - 3 = 21$$


$$8 \times 3 = 24$$


$$3 \times 7 = 21$$

**Bài 4 :**

Mẹ có 6 viên kẹo, mẹ muốn chia đều cho 3 bạn nhỏ. Bạn An và bạn Bình đã vẽ hai bức tranh thể hiện cách chia dưới đây. Theo em, bạn nào đã vẽ đúng? Ấn chọn ô dưới bức tranh vẽ đúng và ghi phép tính tương ứng vào ô trống.

Tranh của bạn An

Tranh của bạn Bình



Phép tính: