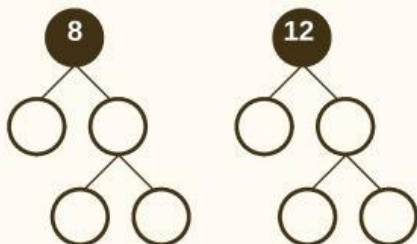


Ayo Jawab Bersama-sama

Tentukan nilai FPB dan KPK menggunakan pohon faktor!

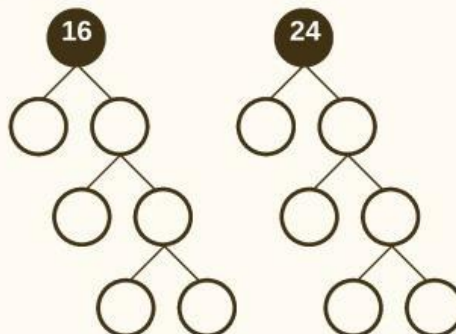
1 KPK dan FPB 8 dan 12



KPK : _____

FPB : _____


2 KPK dan FPB 16 dan 24



KPK : _____

FPB : _____

Seret angka yang tersedia di bawah ke ruang kosong pada pohon faktor hingga jawabannya benar



Kelipatan

Tuliskan 10 angka pertama yang merupakan hasil kelipatan 4, mulai dari yang terkecil!

1

Tuliskan 10 angka pertama yang merupakan hasil kelipatan 6, mulai dari yang terkecil!

2