



Nama:

Kelas:

Lembar kerja siswa

Yuk Berhitung

Hitunglah jumlah buah didalam keranjang dibawah ini




Nama:

Kelas:

Yuk Berhitung

Tulislah angka dengan jawaban yang benar



Nama:

Kelas:

Lembar kerja siswa

Yuk menulis


Ikuti dan tebalkan lah garis putus-putus dibawah ini



Pepaya



Nanas



Mangga



Jeruk




Nama:


Kelas:

Lembar Kerja Siswa

Tariklah garis buah ke jawaban angka yang benar



4



6



5

Nama :

Kelas:

Lembar kerja siswa

Tarik dan letakkan lah buah pir pada keranjang yang benar
letakkan berdasarkan ukuran besar dan kecil

