



20

حل بمفرده	
حل بمساعدة المعلمة	
لم يحل	

قسم الحوسبة وتكنولوجيا المعلومات  
تقييم شامل للمهارات النظرية نهاية الفصل الثاني  
الصف الثاني

الاسم: ..... الصف: الثاني التاريخ: ..... / 5 / 2026



**الاختبار النظري**

**الوحدة الثانية: أنا أזור العالم**

**الدرس الرابع: الألعاب التعليمية**

كتاب الطالب : من صفحة 46 إلى 47

كتاب التدريبات والأنشطة صفحة 39

**الوحدة الثالثة: الرمجة الرسومية**

**الدرس الأول: بدء استخدام برنامج TurtleArt .**

كتاب الطالب : صفحة 55

كتاب التدريبات والأنشطة صفحة 45

**الدرس الثاني: تحريك السلحفاة.**

كتاب الطالب : صفحة 66

كتاب التدريبات والأنشطة: من صفحة 47 إلى 51

**الدرس الثالث: رسم الأشكال.**

كتاب الطالب من صفحة 68 إلى 74

كتاب التدريبات والأنشطة من صفحة 53 إلى 55

**الاختبار العملي**

**الوحدة الثالثة: الرمجة الرسومية**

**الدرس الأول: بدء استخدام برنامج TurtleArt .**

كتاب الطالب : من صفحة 56 إلى 57

كتاب التدريبات والأنشطة صفحة 45

**الدرس الثاني: تحريك السلحفاة.**

كتاب الطالب : من صفحة 58 إلى 67

كتاب التدريبات والأنشطة: من صفحة 47 إلى 51

**الدرس الثالث: رسم الأشكال.**

كتاب الطالب من صفحة 68 إلى 74

كتاب التدريبات والأنشطة من صفحة 53 إلى 55

الوحدة الثانية الدرس الرابع : الألعاب التعليمية من صفحة 46 إلى 47

3

السؤال الأول: اختر الإجابة الصحيحة.

1- تستطيع أن ترى العالم.



2- من خدمات الانترنت زيارة المتاحف.



3- مكتبة قطر الوطنية.



السؤال الثاني: أجب عن الأسئلة بوضع علامة صح (✓) أسفل الصورة المناسبة

1

1- تستطيع أن ترى العالم.



## الوحدة الثالثة الدرس الأول : بدء استخدام برنامج TurtleArt صفحة 55


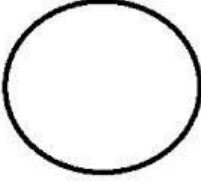

السؤال الثالث: صل بين عمودين.

2	 TurtleArt		لغة خاصة لإصدار الأوامر للحاسوب.	1
	لغة الحاسوب.		برنامج يستخدم أوامر بسيطة لرسم أشكال هندسية ورسومات فنية.	2

السؤال الرابع: ضع دائرة حول الإجابة الصحيحة.

2

1- الأوامر.

2- برنامج يستخدم أوامر بسيطة لرسم أشكال هندسية ورسومات فنية.



السؤال الخامس: أجب عن الأسئلة بوضع علامة صح (✓) أسفل الصورة المناسبة

1

1- لغة خاصة لإصدار الأوامر للحاسوب.

لغة الحاسوب  لغة الإشارة

الوحدة الثالثة الدرس الثاني : تحريك السلحفاة صفحة 66

السؤال السادس: أجب عن الأسئلة بوضع علامة صح (✓) أسفل الصورة المناسبة

1

1- الخط الذي تتركه السلحفاة خلفها وهي تسير.

الممحاة



القلم



2- أداة القلم لأسفل .



السؤال السابع: صل بين عمودين.

3

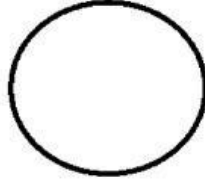
	•	الخط الذي تتركه السلحفاة خلفها وهي تسير.	1
	• القلم	أداة القلم لأسفل.	2
	•	أداة القلم لأعلى.	3

الوحدة الثالثة الدرس الثالث : رسم الأشكال من صفحة 68 إلى 74




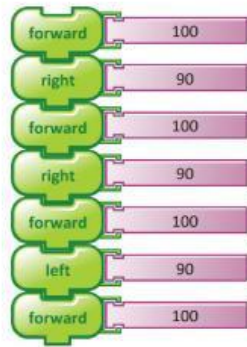
3

السؤال الثامن: ضع دائرة حول الإجابة الصحيحة.

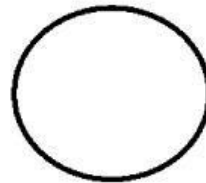
1- شكل له أربعة أضلاع لها نفس القياس.



2- الخطأ في خطوات رسم المربع التالي .



3- الشكل الذي سيتم رسمه من الأوامر التالية.



السؤال التاسع: أجب عن الأسئلة بوضع علامة صح (✓) أسفل الصورة المناسبة

1

1- جميع الخطوات وضعت بالترتيب الصحيح.

الأشكال



التسلسل



1

السؤال العاشر: تتبع خطوات الخوارزمية التالية ثم ارسم الشكل الناتج.

اتبع الخطوات وارسم هنا.



- تقدم للأمام 50 خطوة. (Up arrow icon)
- استدر لليمين 90. (Right turn icon)
- تقدم للأمام 100 خطوة. (Up arrow icon)
- استدر لليمين 90. (Right turn icon)
- تقدم للأمام 50 خطوة. (Up arrow icon)
- استدر لليمين 90. (Right turn icon)
- تقدم للأمام 100 خطوة. (Up arrow icon)

2

السؤال الحادي عشر: اكتشف الخطأ في الخوارزمية التالية وقم بتصحيحه.

- forward 100
- right 90
- forward 100
- right 90
- forward 100
- left 90
- forward 100

الخطأ: .....

التصحيح: .....