

Lembar Kerja Peserta Didik

# LKPD

## MATEMATIKA

Operasi Hitung Penjumlahan dan Pengurangan



Nama : .....

Kelas : .....

Nama: Pimi sartika

# TUJUAN PEMBELAJARAN

1. Siswa dapat memahami konsep penjumlahan bilangan dengan benar.
2. Siswa dapat memahami konsep pengurangan bilangan dengan benar.
3. Siswa dapat menyelesaikan soal penjumlahan dan pengurangan dengan tepat.
4. Siswa dapat menerapkan penjumlahan dan pengurangan dalam kehidupan sehari-hari.

## PERHATIKAN MATERI DI BAWAH INI:





### 1. VIDEO



### 2. PRESENTASI

## MATERI PENDUKUNG



## ORIENTASI MASALAH






Di kantin sekolah, Ani membeli 15 pensil dan memberikan 7 pensil kepada temannya. Kemudian, ibu guru menambahkan lagi 5 pensil untuk Ani. Berapa jumlah pensil Ani sekarang? Bagaimana cara menghitungnya menggunakan penjumlahan dan pengurangan?

Nama : \_\_\_\_\_

Kelas : \_\_\_\_\_

## CODING PENJUMLAHAN

Isilah kotak di bawah ini sesuai dengan kode pada tabel!

				
1	2	3	4	5

$$\text{Red book} + \text{Yellow pencil} = \boxed{\phantom{000}}$$

$$\text{Blue eraser} + \text{Red pen} = \boxed{\phantom{000}}$$

$$\text{Pink highlighter} + \text{Red book} = \boxed{\phantom{000}}$$

$$\text{Red pen} + \text{Red pen} = \boxed{\phantom{000}}$$







$$\text{Blue eraser} + \text{Yellow pencil} = \boxed{\phantom{000}}$$



Nama : \_\_\_\_\_ Kelas : \_\_\_\_\_

# Coding Warna

Mencocokkan gambar dengan warna yang sama!



Beri aku nilai!



Nama: \_\_\_\_\_ Nama: \_\_\_\_\_ Tanggal: / /

Hitung setiap hewan dalam kotak,  
kemudian tarik garis jawaban angka yang benar!



5



3




1



6



2



4