

LKPD MATEMATIKA

Penjumlahan dan
Pengurangan



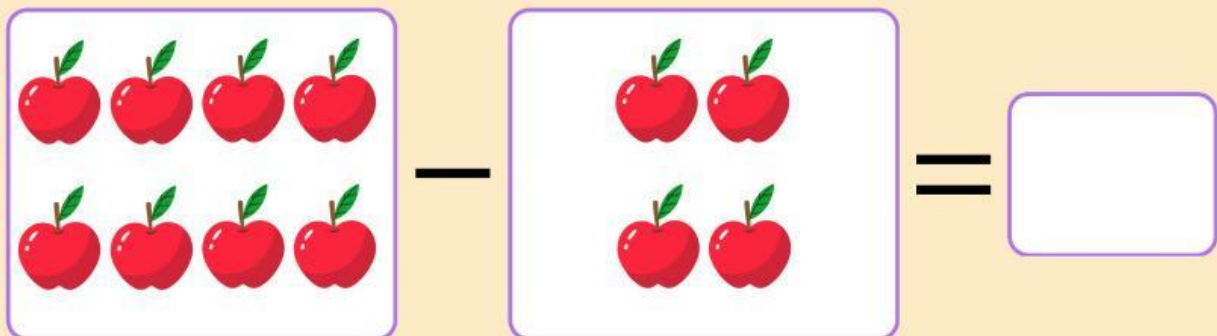
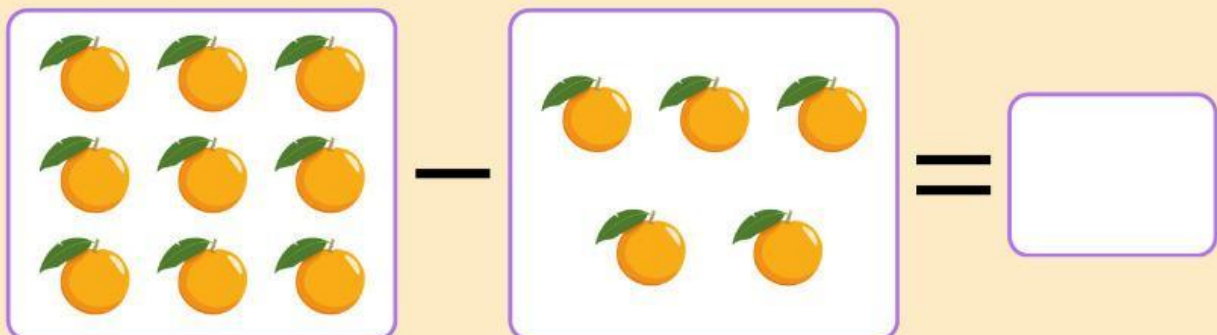


Nama:

Kelas:
LIVEWORKSHEETS

YUK BELAJAR PENGURANGAN

Hitunglah hasil pengurangan di bawah ini, lalu tuliskan hasilnya pada kolom yang telah disediakan!



PENJUMLAHAN

Hitung operasi penjumlahan dibawah ini, lalu tarik garis untuk menemukan jawabannya.

$5 + 7 =$

10

$4 + 2 =$

7

$9 + 1 =$

9

$3 + 4 =$

6

$6 + 5 =$

12

$5 + 8 =$





11

$7 + 2 =$

13

PENJUMLAHAN

Selesaikan penjumlahan gambar di bawah ini lalu tuliskan jawabanmu di kotak yang telah disediakan!



BERHITUNG & MENCOCOKKAN


Hitunglah gambar di bawah ini lalu cocokkan dengan angka yang sesuai dengan jumlah gambar tersebut!



1



3



5



2



4

PENJUMLAHAN PENGURANGAN

Hitunglah penjumlahan dan pengurangan di bawah ini
lalu pilih jawaban yang benar

$2 + 6$		
5	7	8

$2 + 3$		
5	9	6

$4 + 3$		
6	7	8

$3 + 7$		
10	9	8

$1 + 8$		
7	6	9

$4 + 5$		
6	9	8

$7 - 4$		
3	5	2

$10 - 5$		
4	6	5

$6 - 4$		
2	3	1

$9 - 2$		
5	6	7

$8 - 3$		
6	5	4

$4 - 2$		
3	1	2