



Lembar Kerja Peserta Didik

E-LKPD

MATEMATIKA

Bab 2

WAKTU DAN DURASI



Nama: _____

Kelas: _____

Tujuan Pembelajaran

1. Peserta didik dapat membaca dan menulis tanda waktu
2. Peserta didik dapat menentukan lama waktu atau durasi



Petunjuk Penggunaan E-LKPD

1. Berdoalah sebelum memulai kegiatan pembelajaran.
2. Bacalah tujuan pembelajaran dan petunjuk kegiatan dengan saksama.
3. Isi identitas peserta didik pada bagian yang telah disediakan.
4. Kerjakan setiap tugas sesuai instruksi yang diberikan.
5. Gunakan bahasa yang baik dan jawaban yang jelas dalam mengerjakan soal.
6. Jika mengalami kesulitan, peserta didik dapat bertanya kepada guru.
7. Selesaikan seluruh kegiatan tepat waktu dan kumpulkan sesuai arahan guru.

PENGUKURAN

Waktu

1



Dalam jam, jarum pendek menunjukkan ___
sedangkan jarum panjang menunjukkan ___

2

Apabila jarum pendek di jam di angka 7 dan jarum panjang di jam di angka 12 maka menunjukkan pukul ___

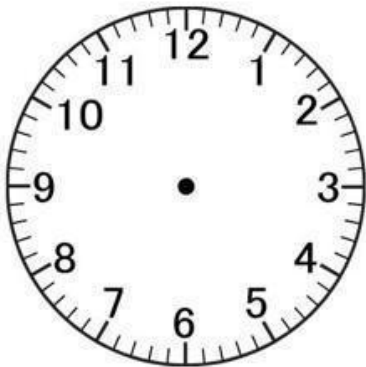
3



Pagi hari biasanya aku bangun pada pukul ___


4

Gambarkan pukul 8.30 !




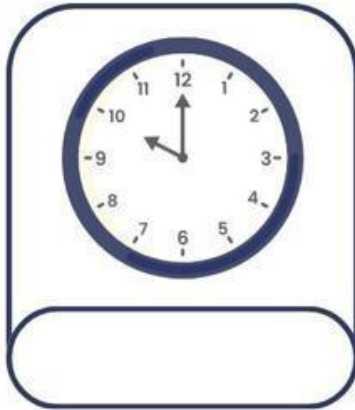
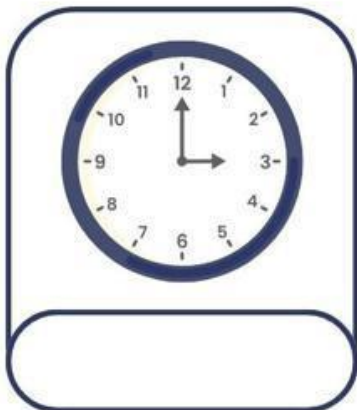


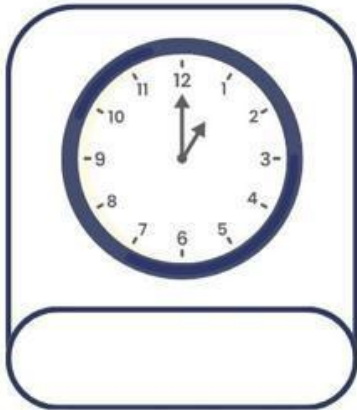

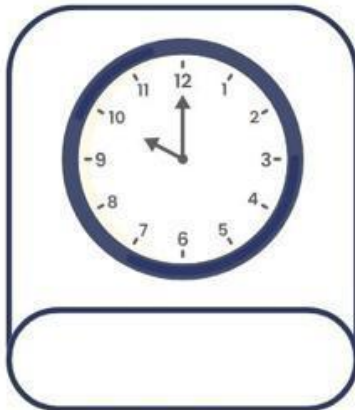

5

Gambarkan pukul 12.00!



MENGENAL WAKTU

Sebutkan waktu yang tepat sesuai dengan gambar jam!




MENGENAL WAKTU


Lihatlah waktu dan gambar jarum jam di setiap jam!



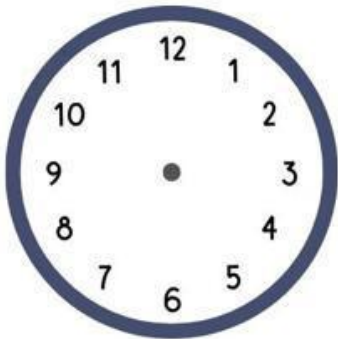
01:00




05:00



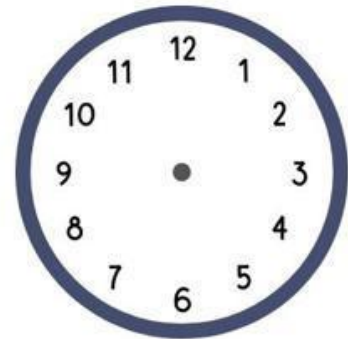
08:00




07:00




09:00



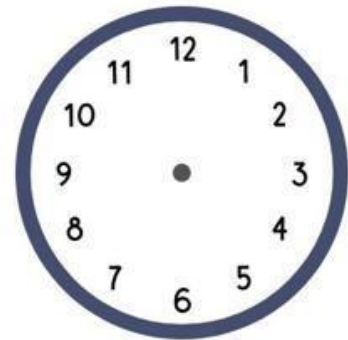
02:00



11:00



10:00



06:00