



LEMBAR KERJA PESERTA DIDIK

LKPD

Mengenal bangun datar dan bangun ruang

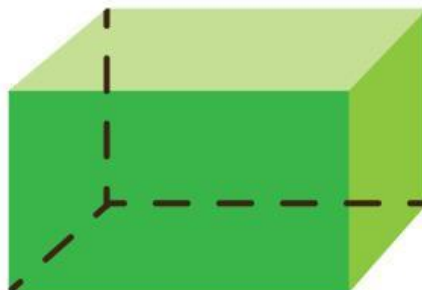

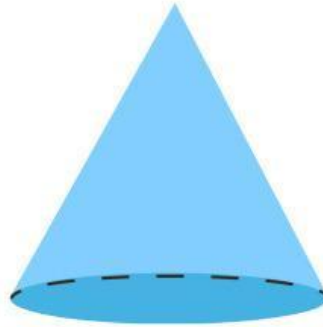
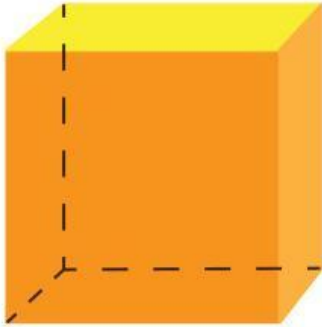


Nama :

Kelas :

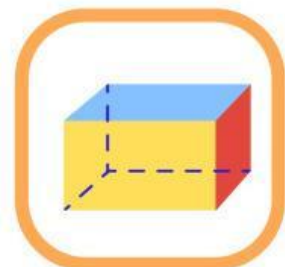

Bangun Ruang

Tuliskan nama-nama bangun ruang di bawah ini.



BANGUN RUANG

Pasangkan bangun ruang di bawah ini dengan tepat.



Menghubungkan Bentuk

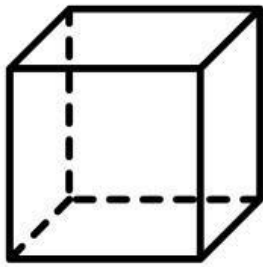
Gambarlah garis untuk menghubungkan dua bentuk yang sama



Bangun Ruang

Hitunglah banyak rusuk, sisi, dan titik sudut bangun ruang berikut!

1.

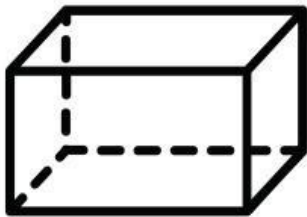


Banyak Sisi :

Banyak Rusuk :

Banyak Titik Sudut :

2.



Banyak Sisi :

Banyak Rusuk :

Banyak Titik Sudut :

3.




Banyak Sisi :

Banyak Rusuk :

Banyak Titik Sudut :

4.

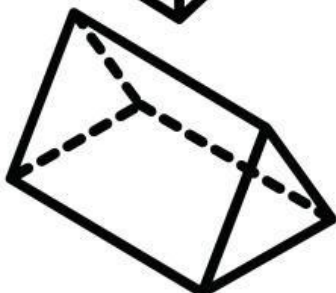


Banyak Sisi :

Banyak Rusuk :

Banyak Titik Sudut :

5.





Banyak Sisi :

Banyak Rusuk :

Banyak Titik Sudut :



Bangun Datar

Hitunglah banyak sudut, sisi, dan titik sudut bangun ruang berikut!

- 



Banyak Sisi :

Banyak Sudut :

Banyak Titik Sudut :
- 



Banyak Sisi :

Banyak Sudut :

Banyak Titik Sudut :
- 



Banyak Sisi :

Banyak Sudut :

Banyak Titik Sudut :
- 

Banyak Sisi :

Banyak Sudut :

Banyak Titik Sudut :
- 

Banyak Sisi :

Banyak Sudut :

Banyak Titik Sudut :