



Lembar Kerja Peserta Didik

TATA SURYA

Pasangkan nama dan gambar planet berikut ini!



Merkurius



Venus



Bumi



Mars



Jupiter



Saturnus



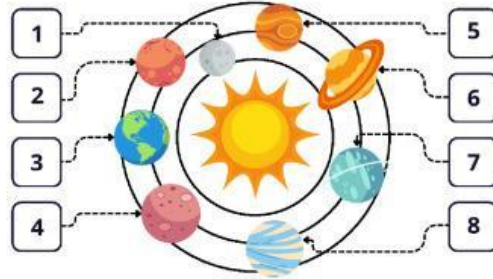
Uranus





Neptunus


SISTEM TATA SURYA

Lihat model tata surya ini, kemudian tulis nama planet menurut urutan nomornya!




 Nama Planet: _____


 Nama Planet: _____

 Nama Planet: _____

 Nama Planet: _____

 Nama Planet: _____

 Nama Planet: _____

 Nama Planet: _____

 Nama Planet: _____

Sebutkan nama planet sesuai penjelasan dan temukan nama planet di dalam kotak.



- 1 Planet paling besar
.....
- 2 Planet paling panas
.....
- 3 Planet paling merah
.....

- 4 Planet paling dingin
.....
- 5 Planet paling kecil
.....
- 6 Planet dengan satelit bulan
.....

MENGENAL TATA SURYA

Cermati penjelasan tentang planet di bawah ini!

Beri tanda centang pada tulisan benar jika memang sesuai dan centang pada tulisan salah jika tidak sesuai.



Mars merupakan planet terpanas

 BENAR SALAH

Merkurius adalah planet yang paling dekat matahari

 BENAR SALAH

Bumi adalah planet yang paling hijau

 BENAR SALAH

Neptunus adalah planet paling kecil

 BENAR SALAH

Yupiter adalah planet paling besar

 BENAR SALAH

MENGENAL SISTEM TATA SURYA

Tulis nama-nama planet dibawah ini dengan tepat pada kotak yang sudah disediakan!

The worksheet contains 10 planets arranged in a grid-like pattern, each with an empty box below it for labeling:

- Mercury (small brown planet with spots)
- Earth (blue and green planet)
- Venus (orange-brown planet)
- Jupiter (large orange and white striped planet)
- Saturn (yellow planet with rings)
- Mars (red planet)
- Uranus (light blue planet with rings)
- Neptune (dark blue planet)
- Pluto (small orange planet)
- Another planet (orange planet with spots)