



LKPD

MENGIDENTIFIKASI ENERGI PANAS DAN CAHAYA



PETUNJUK :

Hubungkan sudut dengan kategori yang tepat:



MENGHASILKAN
PANAS



MENGHASILKAN
CAHAYA



MENGHASILKAN
PANAS



MENGHASILKAN
CAHAYA



MENGHASILKAN
CAHAYA

MENCOCOKKAN GAMBAR



•



•



•



•



•



•



•



•

TEKA-TEKI





Yuk, temukan kata-kata barang yang dibawa pada saat pergi ke sekolah!

M	A	T	A	H	A	R	I	L	T	P
E	P	V	K	P	W	Q	X	N	A	P
R	E	U	J	A	N	S	A	A	S	E
A	N	I	B	L	U	E	B	P	D	N
G	G	L	O	A	B	P	U	D	E	G
A	H	U	L	D	I	C	K	I	N	G
M	A	A	P	W	B	A	U	A	S	A
S	P	A	O	A	N	H	S	S	A	R
I	U	A	I	A	H	A	R	I	S	I
I	S	F	N	L	T	Y	P	I	I	S
P	Q	N	L	W	C	A	M	N	A	I



Lembar Kerja MENGHITUNG MATAHARI

Hitung jumlah Matahari, lalu hubungkan garis yang sesuai dengan jumlah angka yang ada pada kelinci!



Energi Panas

Berilah tanda (✓) pada gambar yang menunjukkan perilaku mematuhi aturan. Beri tanda (✗) pada gambar yang menunjukkan perilaku tidak mematuhi aturan.

