



Lembar Kerja Peserta Didik

LKPD

Ilmu Pengetahuan Alam

Bab 5 Ekosistem dan Simbiosis



Nama :

Kelas :

Nama :

Kelas :

Komponen Biotik dan Abiotik

Tentukan benda-benda berikut ini termasuk komponen biotik atau abiotik dengan memberi tanda centang (✓)

No	Nama Benda	Biotik	Abiotik
1	Tanah		
2	Udara		
3	Ikan		
4	Air		
5	Padi		
6	Burung		
7	Batu		
8	Rumput		
9	Lumut		
10	Cahaya Matahari		



Mencocokkan Simbiosis Mutualisme, Komensalisme dan Parasitisme

Buatlah garis untuk menghubungkan makhluk hidup dengan yang lainnya agar terbentuk simbiosis komensalisme.



RANTAI MAKANAN

Jawablah pertanyaan-pertanyaan dibawah ini!



1. Perhatikan gambar rantai makanan berikut ini!



Tuliskan peran dan hubungan antar makhluk hidup pada rantai makanan di atas!

a. Rumput:

b. Kelinci:

c. Ular:

d. Jamur:

2. Perhatikan gambar rantai makanan berikut ini!



Tulislah urutan rantai makanan dari gambar di atas ini!

a. → b. → c. → d. → e.

Nama :


Kelas :

HEWAN DAN HABITATNYA

Tuliskan habitat dari hewan di bawah ini dengan benar!




Habitat :



Habitat :




Habitat :



Habitat :



Habitat :



Habitat :



EKOSISTEM

Word Search

Can you find the words hidden in the puzzle?

W	S	A	W	A	H	E	D	U	C	E	D
B	A	I	M	U	T	U	A	L	I	S	E
I	A	K	S	I	M	B	I	O	S	I	S
T	W	A	E	A	S	O	K	N	T	I	O
D	F	N	O	R	M	E	I	I	D	C	S
M	U	T	U	A	L	I	S	M	E	K	Y
R	E	U	S	E	A	L	T	G	E	E	S
A	C	C	I	U	Z	A	L	A	M	D	T
N	I	K	V	C	O	N	S	E	R	V	E
T	C	A	K	F	L	T	C	O	T	I	M
A	L	T	E	N	F	O	V	I	H	K	N
I	M	A	K	A	N	A	N	E	L	A	R

SAWAH

RANTAI MAKANAN

IKAN

SIMBIOSIS

MUTUALISME

ALAM