



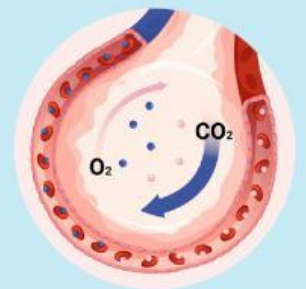
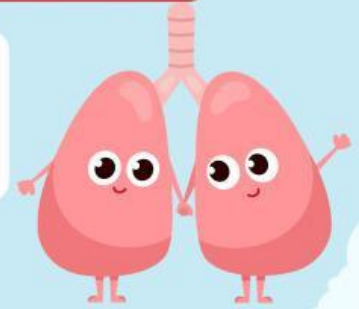
LKPD

Ilmu Pengetahuan Alam

Tema: Sistem Pernapasan Manusia

Nama: _____

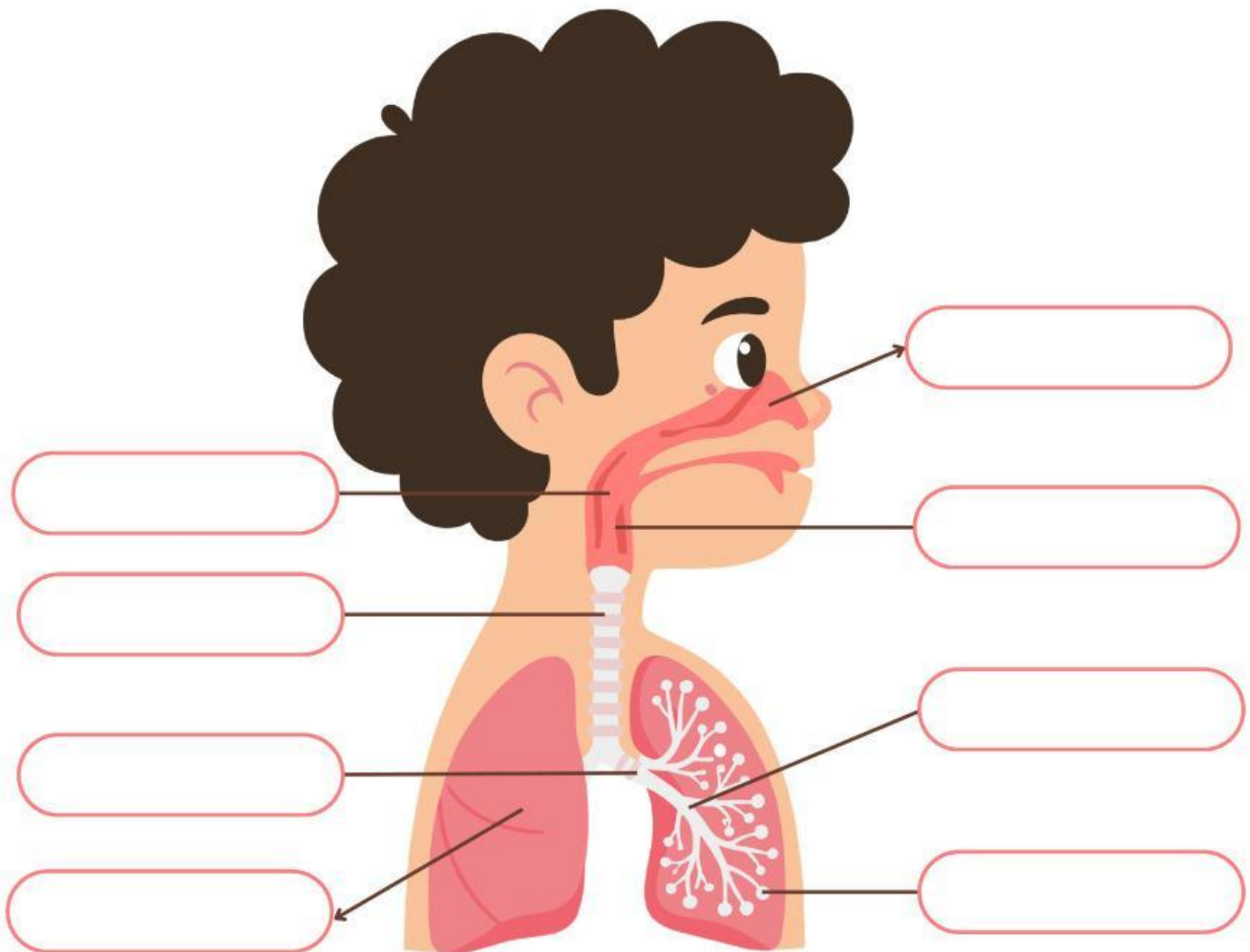
Kelas: _____





ORGAN PERNAPASAN MANUSIA

Tuliskan bagian-bagian organ pernapasan sesuai gambar di bawah ini!



Gunakan nama organ pernapasan berikut untuk melengkapi gambar di atas

Laring

Trakea

Bronkiolus

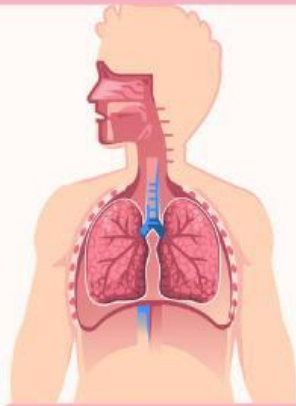
Hidung

Bronkus

Alveolus

Faring

Paru-paru




Sistem Pernapasan Manusia

Berilah tanda (✓) pada kolom benar atau salah, terkait sistem pernapasan manusia di bawah ini.

Pernyataan	Benar	Salah
Manusia bernapas untuk mendapatkan oksigen.	<input type="checkbox"/>	<input type="checkbox"/>
Paru-paru adalah organ utama dalam sistem pernapasan manusia.	<input type="checkbox"/>	<input type="checkbox"/>
Udara yang dihirup manusia mengandung oksigen dan nitrogen.	<input type="checkbox"/>	<input type="checkbox"/>
Hidung membantu pertukaran oksigen dan karbon dioksida.	<input type="checkbox"/>	<input type="checkbox"/>
Hidung berfungsi menyaring udara yang masuk ke tubuh.	<input type="checkbox"/>	<input type="checkbox"/>
Tenggorokan merupakan saluran udara menuju paru-paru.	<input type="checkbox"/>	<input type="checkbox"/>
Karbon dioksida dikeluarkan melalui pori-pori kulit manusia.	<input type="checkbox"/>	<input type="checkbox"/>
Terjadi pertukaran oksigen dan karbon dioksida di hidung.	<input type="checkbox"/>	<input type="checkbox"/>

Teka-Teki Silang

Jawablah pertanyaan-pertanyaan pada teka-teki silang terkait sistem pernapasan manusia di bawah ini!



Menurun

2. Yang mempengaruhi jumlah napas manusia
3. Percabangan dari bronkus
5. Organ pernapasan sebagai tempat pertukaran oksigen dan karbondioksida
6. Gas yang masuk saat bernapas
7. Organ pernapasan utama pada manusia
9. Pernapasan yang melibatkan otot diafragma

Mendatar

1. Organ pernapasan sebagai tempat menyaring, membersihkan, dan melembapkan udara yang masuk
4. Letak pita suara
8. Gangguan sistem pernapasan yang bergejala batuk, pilek, dan demam
10. Proses keluarnya udara dari paru-paru

MENGENAL FUNGSI PERNAFASAN MANUSIA



Sambungkan gambar dengan nama dan fungsi organ pernafasan yang sesuai.



Faring

Jalur udara dari hidung ke laring.

Laring

Mengandung pita suara dan mencegah makanan masuk ke saluran napas.

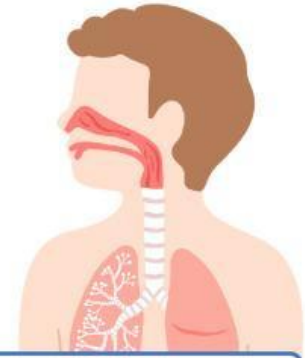
Trakea

Saluran utama udara menuju paru-paru.

Hidung

Menyaring, menghangatkan, dan melembapkan udara yang masuk.

MENGENAL SISTEM PERNAPASAN



Temukan nama organ pernapasan manusia yang terdapat pada kotak di bawah ini!

R O N G G A H I D U N G H
E F R R Y M F B I E S M I
L A R I N G V R A A A P A
S R I A D C H O N L E N T
A I H F P G E N U V J C R
G N S G Z X O K I E C M A
L G C P S L U U N O Q H K
C A M L U R G S A L U A E
A S T E A K T O N U L S A
B R O N K I O L U S N G E
I A T E R M E L O N D K C
Y E R R C P A R U P A R U



- RONGGA HIDUNG
- FARING
- LARING
- TRAKEA
- BRONKUS
- BRONKIOLUS
- ALVEOLUS
- PARU-PARU