



Lembar Kerja Peserta Didik

LKPD

Ilmu Pengetahuan Sosial

Bab 2 Perubahan Musim dan Dampaknya




Nama: _____

Kelas: _____

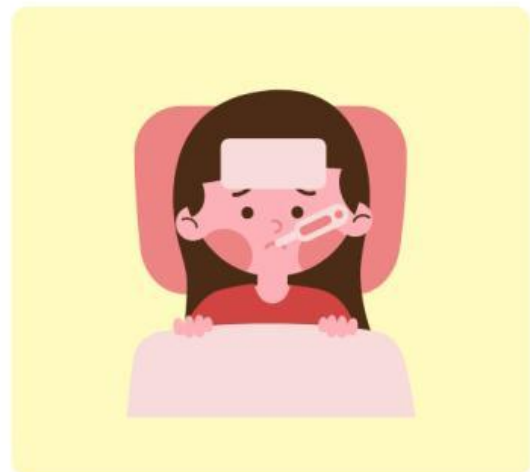
Dampak Perubahan Musim dalam Kehidupan Sehari-hari

Di bawah ini merupakan gambar-gambar dari dampak musim kemarau dan hujan. Tulislah di bawah gambar mana yang merupakan dampak dari musim kemarau dan musim hujan.



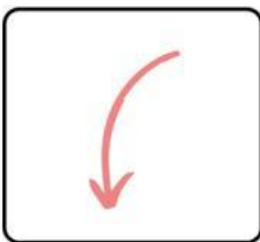
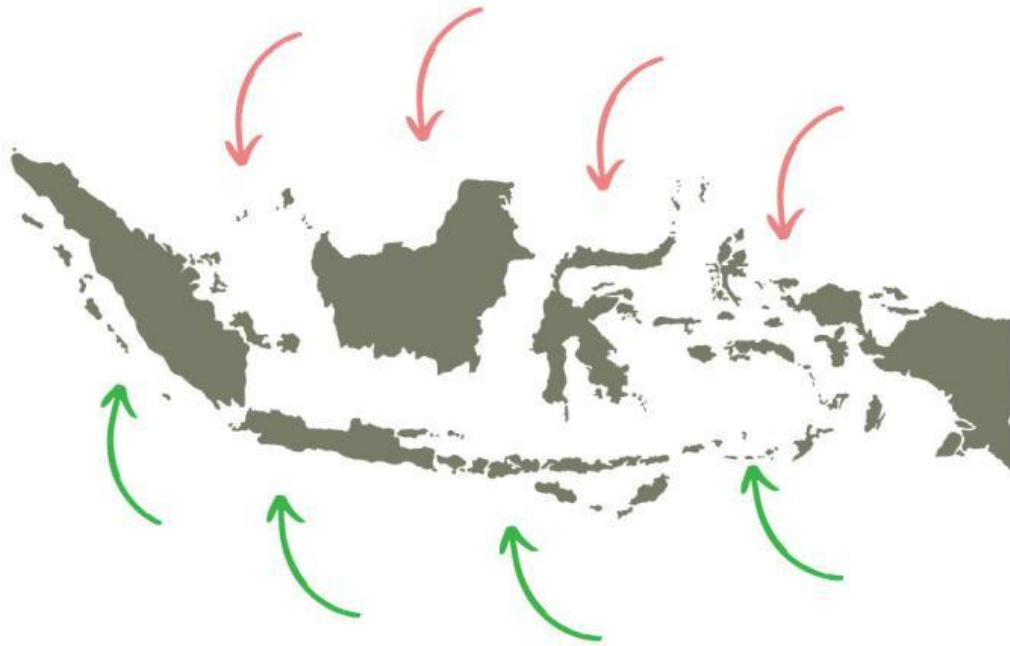






Angin Muson Timur dan Barat

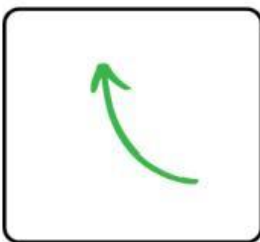
Di bawah ini merupakan gambar pergerakan angin muson di Indonesia. Amatilah panah di dalam gambar kemudian jawablah pertanyaan di bawah dengan benar.



Angin muson: _____

Berasal dari: _____

Dampak: _____



Angin muson: _____

Berasal dari: _____

Dampak: _____

Perlengkapan untuk Setiap Perubahan Musim

Amatilah gambar-gambar di bawah ini, kemudian buatlah garis untuk menghubungkan benda sesuai dengan musim saat benda tersebut digunakan.



Musim Kemarau

Musim Hujan



Kegiatan Menanam Padi Oleh Petani

Amatilah kedua gambar di bawah ini, kemudian berilah tanda centang pada lingkaran sesuai dengan kapan kegiatan tersebut dilakukan.

Menanam Padi



Musim Hujan



Musim Kemarau

Memanen Padi



Musim Hujan



Musim Kemarau