

LKPD

Bilangan Asli



Nama:

Kelas:  LIVEWORKSHEETS

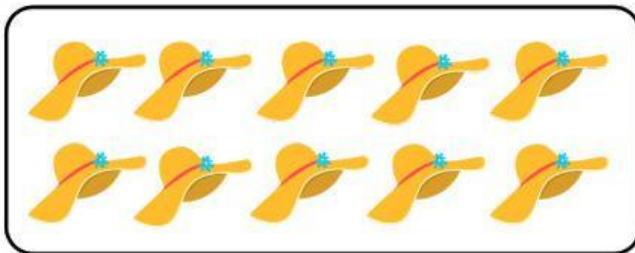
MARI MENCOCOKKAN

Nama: _____ Kelas: _____

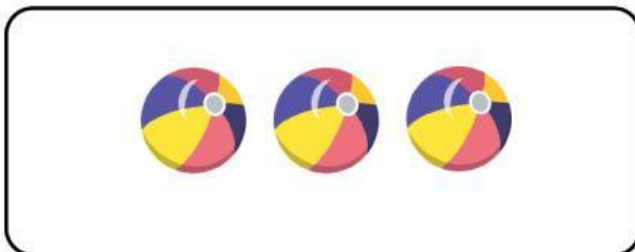
Hitung jumlah bendanya, lalu tarik garis menuju angka yang menunjukkan jumlah yang benar!



10



1



4



3



5



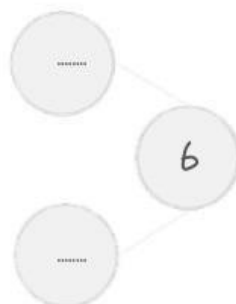

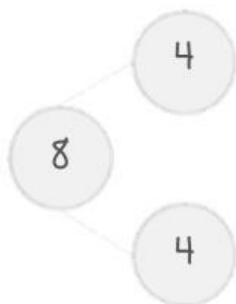
Nama:

Kelas:

Tanggal:

Menemukan Pasangan Bilangan

Hitung benda yang ada dalam kotak lalu tuliskan pasangannya.





Nama: _____

Kelas: _____ Absen No: _____

Penilaian:

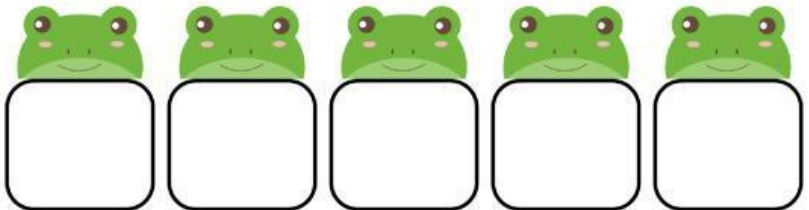


Nilai: _____


Paraf: _____

MARI MENGURUTKAN BILANGAN

14,7,32,19,26



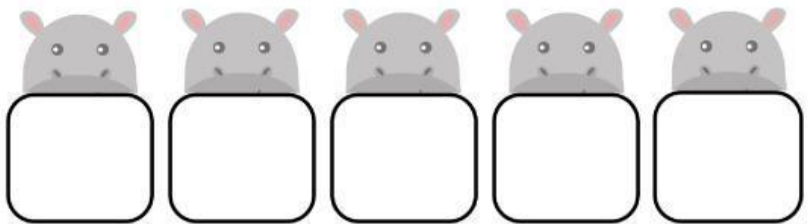
5,18,41,27,33




9,24,37,15,42




11,34,7,26,43



27,9,36,18,44



12,28,4,36,25



Nama :

Kelas :

POLA BILANGAN LONCAT

Bantulah Daniel menuju rumahnya dengan melanjutkan pola bilangan loncat di bawah ini!



2

4

6



24



38



48

Nama : _____

Kelas : _____

BANDINGKAN YUK!

Lebih Besar, Kecil, atau Sama?



PETUNJUK :

Gunakan tanda $<$, $>$, atau $=$ untuk membandingkan bilangan.

