

LKPD

ILMU PENGETAHUN ALAM

Tema: Mengenal Pancaindra Manusia



Nama:

Kelas:

MENCOCOKKAN PANCAINDRA MANUSIA

Amati gambar pancaindra manusia di sebelah kiri. Hubungkan dengan nama pancaindra tersebut.



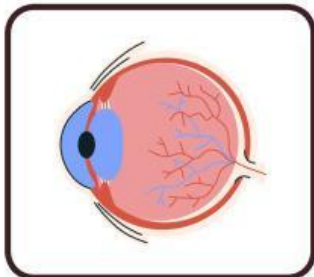
MATA



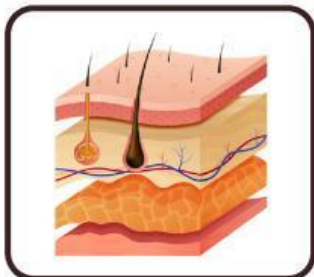
HIDUNG



KULIT



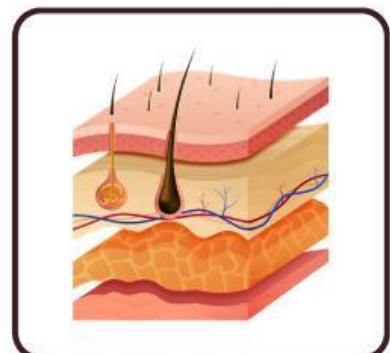
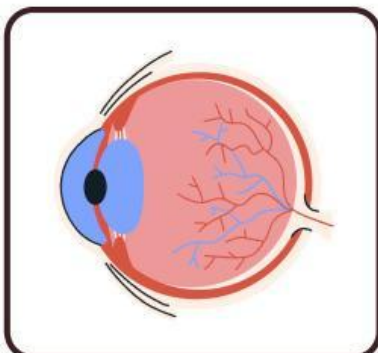
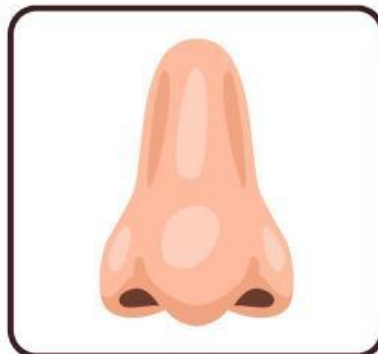
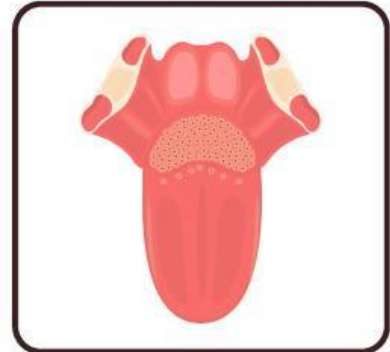
TELINGA



LIDAH

MENGENAL PANCAINDRA MANUSIA

Amati gambar pancaindra manusia di bawah ini, lalu tuliskan nama pancaindra yang sesuai!



FUNGSI PANCAINDRA MANUSIA

Jawablah Pilihan Ganda dibawa ini dengan benar dan tepat



Gambar disamping merupakan contoh indra manusia yang berfungsi untuk

- A. Mendengar
- B. Melihat
- C. Merasa
- D. Meraba
- E. Mencium



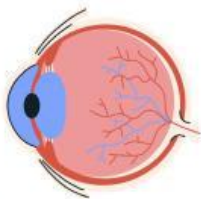
Gambar disamping merupakan contoh indra manusia yang berfungsi untuk

- A. Mendengar
- B. Melihat
- C. Merasa
- D. Meraba
- E. Mencium



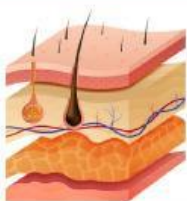
Gambar disamping merupakan contoh indra manusia yang berfungsi untuk

- A. Mendengar
- B. Melihat
- C. Merasa
- D. Meraba
- E. Mencium



Gambar disamping merupakan contoh indra manusia yang berfungsi untuk

- A. Mendengar
- B. Melihat
- C. Merasa
- D. Meraba
- E. Mencium



Gambar disamping merupakan contoh indra manusia yang berfungsi untuk

- A. Mendengar
- B. Melihat
- C. Merasa
- D. Meraba
- E. Mencium

MENGENAL PANCAINDRA MANUSIA

Bacalah cerita di bawah ini, lalu isilah jawaban sesuai pertanyaan yang tersedia!

1. Sinta sedang membaca buku cerita di ruang tamu. Ia sangat senang melihat gambar-gambar yang berwarna. Pancaindra apa yang digunakan Sinta? _____

2. Roni mendengar suara hujan dari jendela. Ia segera mengambil jas hujan. Apa nama alat tubuh yang membantunya mendengar suara hujan? _____

3. Bunga mawar di taman rumah Dina sangat harum. Ia mendekatkan wajahnya dan mencium aromanya. Bagian tubuh apa yang digunakan Dina? _____

4. Farah makan buah jeruk yang rasanya asam. Ia tertawa karena rasanya mengejutkan. Pancaindra apa yang digunakan Farah? _____

5. Saat bermain di halaman, kaki Andi menginjak rumput yang dingin dan basah. Ia bisa merasakan itu dengan pancaindra apa? _____

MENULIS FUNGSI DAN CARA MERAWAT PANCAINDRA

Amati gambar pancaindra manusia. Isilah fungsi dan cara merawat pancaindra manusia yang sesuai!

PANCAINDRA	FUNGSI	CARA MERAWAT
		
		
		
		
		