

LKPD

Matematika

Penjumlahan dan Pengurangan

$$5 + 3 = ?$$
$$7 - 2 = ?$$




Nama:


Kelas:

Ayo Mencocokkan


Mari kita hitung jumlah hewan-hewan tersebut dan pasangkan dengan hasil yang sesuai!




6



5



7



10

AYO HITUNG PENJUMLAHAN DI BAWAH INI!

Nama :

Kelas :



PETUNJUK ;

Selesaikan soal penjumlahan dan sederhana berikut!

$$3 + 2$$

$$7 + 8$$

$$9 + 2$$

$$6 + 3$$

$$2 + 2$$

$$4 + 1$$

$$5 + 6$$

$$3 + 3$$

$$7 + 2$$

Ayo Berlatih Hitung Cepat!

Hitung hasil pengurangan di bawah ini. Tulis jawabannya di kotak!

$7 - 4 = \square$

$9 - 2 = \square$

$8 - 4 = \square$

$10 - 5 = \square$

$6 - 3 = \square$

$7 - 2 = \square$

SOAL CERITA PENJUMLAHAN BERGAMBAR



PETUNJUK :

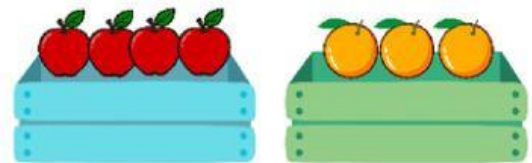
Berikan tanda centang pada jawaban yang benar!

Nana membantu ibunya belanja di supermarket, di keranjang biru dia mengambil 4 buah apel merah dan di keranjang hijau dia mengambil 3 buah jeruk. Nana ingin tahu berapa jumlah buah yang dia beli. Jadi berapa total semua buah yang Nana dan ibu beli

5

8

7



Ditaman belakang sekolah ada 8 siswa bermain petak umpet dan 3 siswa bermain perosotan. Jika bu guru ingin mengajak semua siswa bermain bersama, maka berapa siswa yang akan ikut bermain?

5

11

13



Bu Diah akan menyusun rak buku di perpustakaan, jika dirak atas ada 5 buku cerita dan di rak bawah ada 7 buku mata pelajaran. Maka hitunglah berapa total buku yang akan Bu Diah susun kedalam rak buku

12

10

11



Adi membuat 6 kue cokelat dan 5 kue stroberi untuk ulang tahun ibunya. Ia ingin menghitung semua kue yang sudah dibuat. Berapa jumlah seluruh kue Adi?

14

10

11

