

MATEMATIKA LKPD

**Kelas 5
Sekolah Dasar**

Oleh: Nipian Pebrianto



Nama:

Kelas:

Tujuan Pembelajaran

- Peserta didik mampu memahami konsep perkalian dan pembagian
- Peserta didik mampu menyelesaikan soal sederhana
- Peserta didik mampu bekerja sama dalam kelompok

Perhatikan Materi Berikut : 1. Video

2. Presentasi

Materi Pendukung

Orientasi Masalah

Di perpustakaan ada 48 buku cerita baru. Buku-buku itu akan dibagikan sama banyak ke 6 rak. Setiap rak harus mendapat jumlah buku yang sama. Berapa banyak buku di setiap rak?

Jawab:



.....
.....

Menghitung Jumlah Buah

Nama :

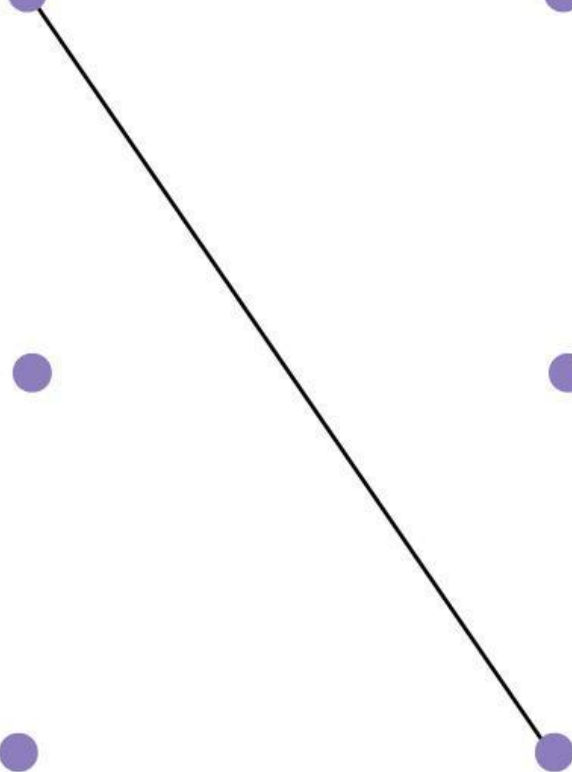
Kelas :

Hitung jumlah setiap buah, lalu tulis angkanya di bawah gambar buah yang sesuai!



Makanan Kesukaan Hewan

Tarik garis dari hewan ke makanan favoritnya, ya!



Nama:

Kelas:

MENULIS NAMA PEKERJAAN

Carilah kata-kata yang termasuk nama pekerjaan!

P	E	T	A	N	I	Z	A	D	E	P
W	E	P	L	M	B	V	F	R	U	O
C	W	N	T	Y	G	U	R	U	U	L
V	B	C	J	M	X	C	C	N	M	I
G	A	U	I	A	S	D	F	R	T	S
D	K	J	H	S	H	B	V	B	N	I
O	Y	P	J	I	L	I	U	T	R	W
K	E	I	R	N	I	O	T	P	K	M
T	P	L	L	I	S	Z	A	X	W	R
E	E	O	I	S	O	P	I	R	Y	T
R	F	T	H	Y	T	R	D	C	V	A
A	R	N	E	L	A	Y	A	N	I	I

PENJAHIT

SOPIR

PETANI

NELAYAN

GURU

MASINIS

DOKTER

POLISI

PILOT