

Lembar Kerja Peserta Didik

IPA

Lingkungan Biotik dan Abiotik

Nama: _____

Kelas: _____





Ayo Pikirkan!

Hubungkan gambar dengan jenis komponen yang sesuai.



Komponen Abiotik



Komponen Biotik



Nama : _____

Kelas : _____

Teka Teki Komponen Biotik dan Abiotik

Temukan 8 komponen biotik dan abiotik pada kotak berikut. Lalu, garis komponen biotik dan abiotik yang kalian temukan pada tabel berikut dan lengkapi kolom yang tersedia.

□	□	□
□	□	□
□	□	



n	v	k	h	e	w	a	n	r	m	i	m
s	c	e	f	x	o	x	d	t	n	v	x
r	i	t	a	n	a	h	b	s	g	h	a
b	e	t	a	n	i	u	b	t	u	o	i
a	i	u	j	a	m	z	h	z	o	a	r
k	z	l	o	u	l	o	g	s	i	r	j
t	s	r	j	d	x	j	a	m	u	r	r
e	x	a	s	a	p	i	r	z	p	i	n
r	n	f	e	r	o	x	u	s	g	x	k
i	v	a	n	g	i	n	n	e	s	z	j




Nama : _____

Kelas : _____

MENGENAL KOMPONEN BIOTIK DAN ABIOTIK

Kelompokkan benda-benda berikut ini sesuai dengan komponennya



**Komponen
Biotik**

**Komponen
Abiotik**

MELINGKARI JENIS KOMPONEN

Lingkari gambar di bawah ini sesuai dengan jenis komponennya.

Nama Siswa: _____ Kelas: _____ Absen No: _____

Biotik



Abiotik










Penilaian



Komponen Ekosistem

Berikan tanda (√) pada kolom Biotik atau Abiotik di bawah.

Nama: _____ Kelas: _____ Absen No: _____

Gambar	Biotik	Abiotik
	✓	
		
		
		
		
		
		

Penilaian

