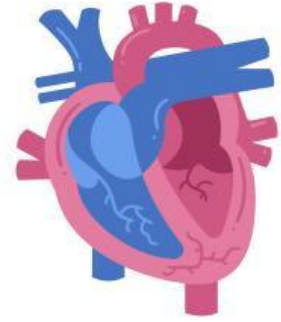


# MENCOCOKKAN SISTEM PERNAPASAN



Hubungkan organ pernafasan sebelah kiri nama yang tepat di sebelah kanan dengan menarik garis.

Nama:

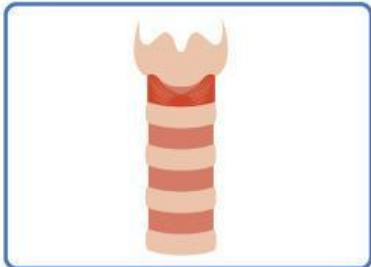
Kelas:



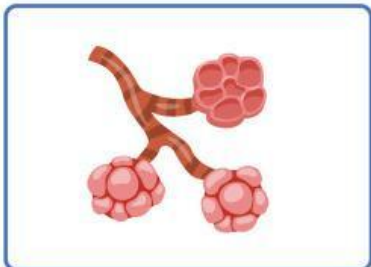
paru paru



Bronkiolus

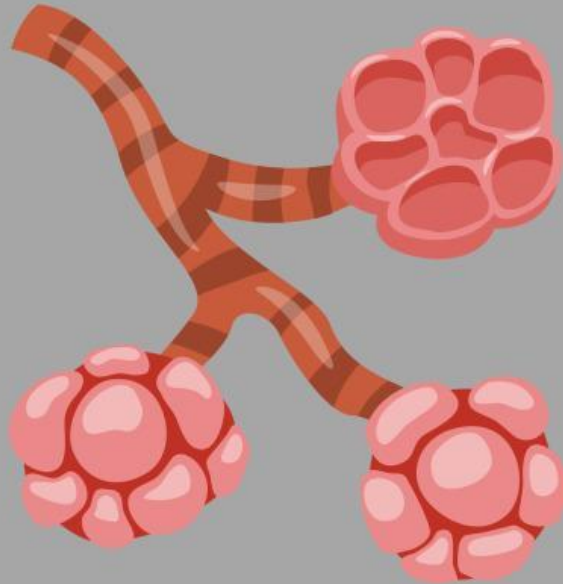


Hidung



trakea

**jawablah pertanyaan  
dengan benar**



**Apakah nama  
sistem pernapasan  
di bawah ini**

**Centang lah jawaban  
yang benar**



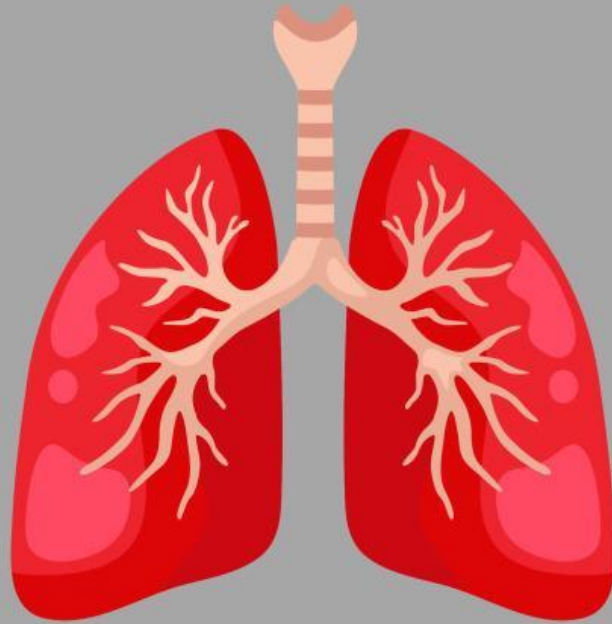
**apa fungsi sistem  
pernapasan di atas**

**memompa  
darah**

**menyaring  
udara**

**mencerna  
makanan**

**centanglah jawaban  
Yang benar**



**Apa fungsi sistem  
pernapasan di atas**

**Mengatur  
Suhu tubuh**

**Mencerna  
makanan**

**Tempat pertukaran  
oksigen dan karbon  
dioksida**

# SISTEM PERNAPASAN

Carilah nama sistem pernapasan di bawah ini



f	P	t	b	l	v	l	y	b	a	l	t
n	A	s	f	o	o	t	b	a	l	l	e
B	R	O	N	k	l	O	L	U	S	t	n
r	U	r	i	a	l	c	d	h	r	e	w
i	P	o	c	k	e	y	m	l	s	n	r
a	A	u	g	b	y	c	i	e	t	n	e
t	R	e	t	a	b	l	n	t	n	i	s
h	U	y	m	n	a	s	t	i	c	s	t
l	w	r	s	f	l	v	o	c	t	e	l
o	b	a	l	t	l	o	n	s	n	n	i
H	I	D	U	N	G	l	l	e	y	b	n
f	t	b	c	r	i	c	k	e	t	v	g

Paru paru

Hidung

Bronkiolus