

FICHA INTERACTIVA MATEMÁTICA– 3°

Refuerzo Escolar

Resolvemos problemas con el ordenamiento

¿Qué aprenderás?

Aprenderás a comparar números de hasta cuatro cifras.

1. Marca con \checkmark el número mayor.

a) 635
653

b) 910
810

2. Encierra el número menor.

a) 408 480

b) 232 223

3. Encierra el número mayor.

596 659

847 748

4. Completa los números faltantes.

a) 1 más que 4638 es

1 menos que 4638 es

b) 10 más que 4638 es

10 menos que 4638 es

c) 100 más que 4638 es

100 menos que 4638 es

d) 1000 más que 4638 es

1000 menos que 4638 es

5. Encierra el número mayor.

5350

5530

2168

2186

6. Encierra el número menor.

6091

6190

8682

8862

7. Relaciona:

1 menos que 2104

7369

10 más que 5432

8269

100 menos que 6050

2103

100 más que 7269

6269

1000 más que 7269

5442

1000 menos que 7269

5950

8. Encierra el número mayor.

5350

5530

2168

2186

9. Encierra el número menor.

6091

6190

8682

8862



Lee la situación

Sofía registró en una tabla la cantidad de sándwiches vendidos en el primer semestre del año. En el próximo mes, Sofía solo podrá preparar los 2 tipos de sándwiches que son los más vendidos. ¿Qué variedades preparará?

Ventas

Sándwiches	N.º de unidades
Palta	1823
Huevo	2138
Pollo	1832



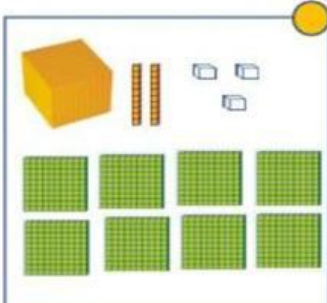
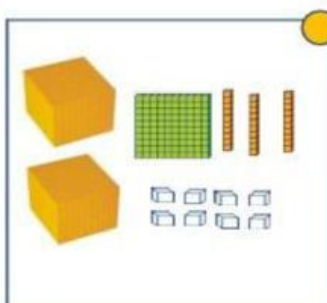
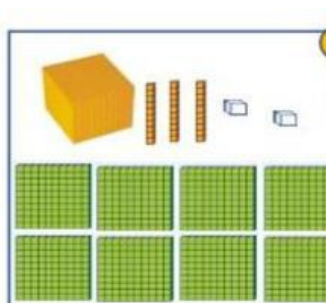
1. **Responde** a partir de la situación presentada:

- ¿Qué tipos de sándwiches vendió menos de dos millares?

- ¿Qué tipos de sándwiches vendió más de un millar?

- ¿Qué tipo de sándwich vendió más de dos millares?

2. **Utiliza** tus materiales para representar las cantidades de sándwiches. Luego, con una línea, **une** la representación con el número que corresponda.

2138	1832	1823
		

3. **Compara** los siguientes números y **coloca** los símbolos $<$, $>$ o $=$, según corresponda:

1832 ___ 1823	1832 ___ 2138	1823 ___ 2138
---------------	---------------	---------------

4. **Completa:**

- 2138 es mayor que _____ y es mayor que _____
- 1832 es mayor que _____ y es menor que _____
- 1823 es menor que _____ y es menor que _____

5. **Ordena** de mayor a menor el número de sándwiches vendidos:

_____	>	_____	>	_____
-------	---	-------	---	-------

6. **Responde** la pregunta del problema:

- Sofía deberá preparar sándwiches de _____ y _____